

|           |             |   |   |     |
|-----------|-------------|---|---|-----|
| さんすう 第1学年 | 【なかまづくりとかず】 | 月 | 日 | なまえ |
|-----------|-------------|---|---|-----|



① すうじをかく れんしゅうをしましょう。

|   |   |   |   |   |   |   |   |   |    |
|---|---|---|---|---|---|---|---|---|----|
| 1 | 2 | 3 | 4 | 5 | 6 | 7 | 8 | 9 | 10 |
|   |   |   |   |   |   |   |   |   |    |
|   |   |   |   |   |   |   |   |   |    |
|   |   |   |   |   |   |   |   |   |    |
|   |   |   |   |   |   |   |   |   |    |

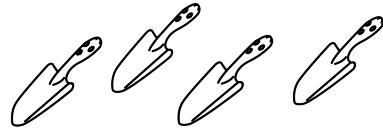


かずをかぞえて、すうじをかきましょう。


②





③




④




⑤





⑥





⑦





⑧




⑨




⑩



|           |             |   |   |     |
|-----------|-------------|---|---|-----|
| さんすう 第1学年 | 【なかまづくりとかず】 | 月 | 日 | なまえ |
|-----------|-------------|---|---|-----|




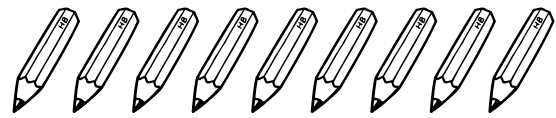
かずのおおいほうに○をつけましょう。

①

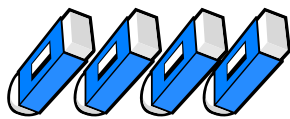
8                  6  
 (   )              (   )

②

  
 (   )

  
 (   )

③

  
 (   )

5  
 (   )



□にあうかずをかきましょう。

④

3   4   □   6   □   8

⑤

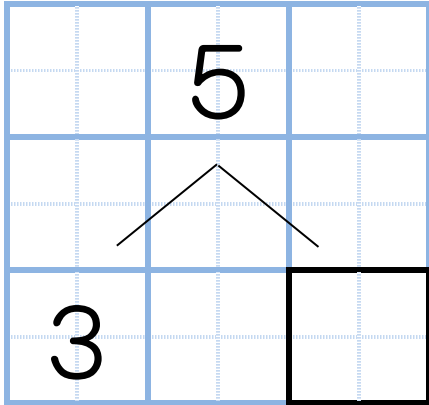
□   3   4   5   □   7   □   9

|           |             |   |   |     |
|-----------|-------------|---|---|-----|
| さんすう 第1学年 | 【なかまづくりとかず】 | 月 | 日 | なまえ |
|-----------|-------------|---|---|-----|

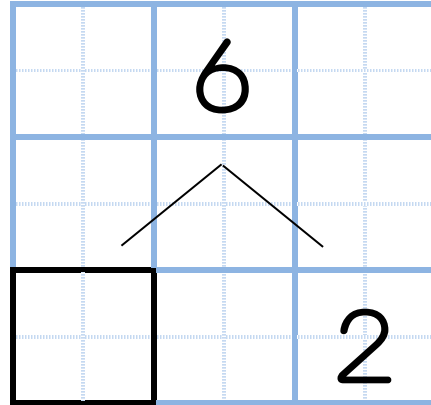


にかずをかきましょう。

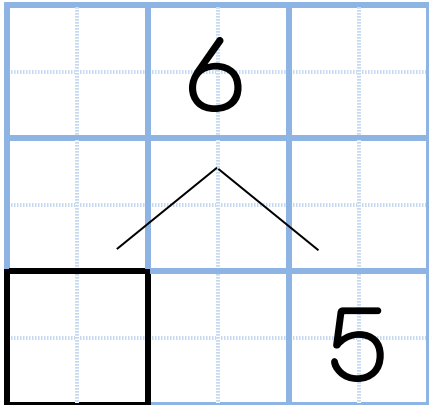
①



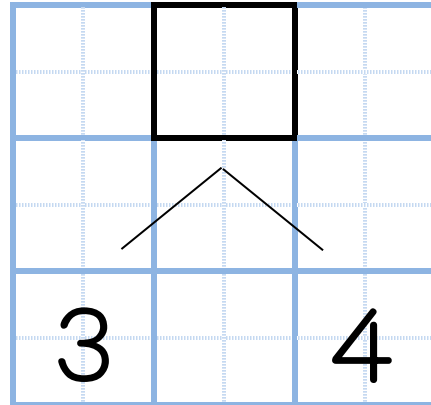
②



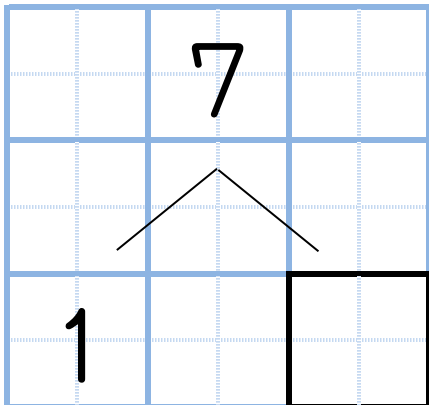
③



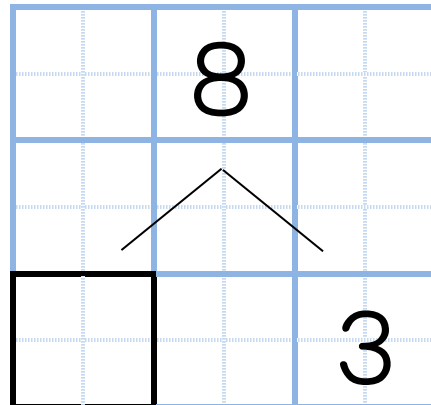
④



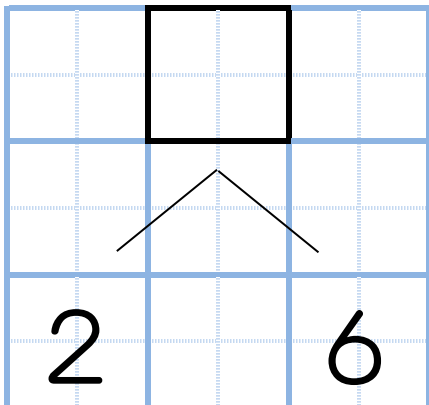
⑤



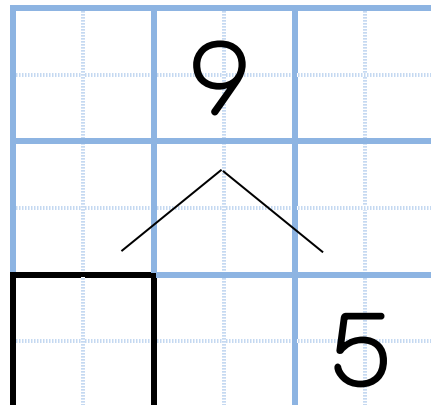
⑥



⑦



⑧



|           |             |         |
|-----------|-------------|---------|
| さんすう 第1学年 | 【なかまづくりとかず】 | 月 日 なまえ |
|-----------|-------------|---------|



2つのかずで10をつくります。たて、よこ、ななめでみつけて、まるでかこみましょう。

①

|   |   |   |   |   |
|---|---|---|---|---|
| 5 | 4 | 3 | 7 | 1 |
| 6 | 5 | 8 | 9 | 2 |
| 9 | 6 | 2 | 4 | 5 |
| 1 | 3 | 4 | 7 | 8 |
| 2 | 6 | 9 | 3 | 5 |

②

|   |   |   |   |   |
|---|---|---|---|---|
| 7 | 5 | 3 | 7 | 1 |
| 6 | 5 | 8 | 7 | 9 |
| 9 | 1 | 2 | 4 | 5 |
| 3 | 4 | 9 | 6 | 8 |
| 2 | 6 | 7 | 3 | 2 |

③

|   |   |   |   |   |
|---|---|---|---|---|
| 5 | 4 | 1 | 7 | 6 |
| 6 | 8 | 5 | 9 | 2 |
| 9 | 6 | 2 | 5 | 8 |
| 7 | 1 | 3 | 7 | 8 |
| 2 | 8 | 4 | 6 | 5 |



④ 2まいを———でおすんで、9にしましょう。

|   |   |   |   |
|---|---|---|---|
| 8 | ・ | ・ | 5 |
| 4 | ・ | ・ | 2 |
| 7 | ・ | ・ | 1 |


⑤ 2まいを———でおすんで、8にしましょう。

|   |   |   |   |
|---|---|---|---|
| 5 | ・ | ・ | 7 |
| 6 | ・ | ・ | 3 |
| 1 | ・ | ・ | 2 |

|           |         |   |   |     |
|-----------|---------|---|---|-----|
| さんすう 第1学年 | 【なんばんめ】 | 月 | 日 | なまえ |
|-----------|---------|---|---|-----|



なんばんめでしょう。



①



は うえから

ばんめ

②



は したから

ばんめ

③



は うえから

ばんめ

④



は したから

ばんめ



いろをぬりましょう。


⑤ まえから 6ばんめ (まえ) ○○○○○○ (うしろ)

⑥ まえから 9ばんめ (まえ) ○○○○○○○○○ (うしろ)

⑦ うしろから 2ばんめ (まえ) ○○○○○○○○○ (うしろ)



おはなしをつくりましょう



⑧ は ( ) から ( ) ばんめ  
 は ( ) から ( ) ばんめ

⑨ は ( ) から ( ) ばんめ  
 は ( ) から ( ) ばんめ

⑩ は ( ) から ( ) ばんめ  
 は ( ) から ( ) ばんめ

|           |              |   |   |     |
|-----------|--------------|---|---|-----|
| さんすう 第1学年 | 【どのようにかわるかな】 | 月 | 日 | なまえ |
|-----------|--------------|---|---|-----|

① 5は，どのようにかわるかな。

|        |               |
|--------|---------------|
| ●○○○○○ | ●が( )こ，○が( )こ |
| ●●○○○○ | ●が( )こ，○が( )こ |
| ●●●○○○ | ●が( )こ，○が( )こ |
| ●●●●○○ | ●が( )こ，○が( )こ |



図をみて，□にあてはまるかずをかきましょう。

|       |            |                                |   |                                |
|-------|------------|--------------------------------|---|--------------------------------|
| ② 7は， | ●○○○○○○○   | <input type="text" value="1"/> | と | <input type="text" value="6"/> |
|       | ●●○○○○○○   | <input type="text"/>           | と | <input type="text"/>           |
|       | ●●●○○○○○   | <input type="text"/>           | と | <input type="text"/>           |
|       | ●●●●○○○○   | <input type="text"/>           | と | <input type="text"/>           |
|       | ●●●●●○○○   | <input type="text"/>           | と | <input type="text"/>           |
|       | ●●●●●●○○   | <input type="text"/>           | と | <input type="text"/>           |
|       | ●●●●●●●○   | <input type="text"/>           | と | <input type="text"/>           |
| ③ 9は， | ●○○○○○○○○○ | <input type="text"/>           | と | <input type="text"/>           |
|       | ●●○○○○○○○○ | <input type="text"/>           | と | <input type="text"/>           |
|       | ●●●○○○○○○○ | <input type="text"/>           | と | <input type="text"/>           |
|       | ●●●●○○○○○○ | <input type="text"/>           | と | <input type="text"/>           |
|       | ●●●●●○○○○○ | <input type="text"/>           | と | <input type="text"/>           |
|       | ●●●●●●○○○○ | <input type="text"/>           | と | <input type="text"/>           |
|       | ●●●●●●●○○○ | <input type="text"/>           | と | <input type="text"/>           |
|       | ●●●●●●●●○○ | <input type="text"/>           | と | <input type="text"/>           |
|       | ●●●●●●●●●○ | <input type="text"/>           | と | <input type="text"/>           |

|           |                      |         |
|-----------|----------------------|---------|
| さんすう 第1学年 | 【あわせていくつ<br>ふえるといくつ】 | 月 日 なまえ |
|-----------|----------------------|---------|



たしざんをしましょう。

①  $2 + 3$

⑪  $2 + 8$

②  $4 + 2$

⑫  $9 + 0$

③  $8 + 1$

⑬  $5 + 0$

④  $5 + 4$

⑭  $7 + 0$

⑤  $6 + 3$

⑮  $1 + 4$

⑥  $1 + 5$

⑯  $7 + 2$

⑦  $2 + 6$

⑰  $9 + 1$

⑧  $3 + 3$

⑱  $0 + 8$

⑨  $4 + 6$

⑲  $0 + 4$

⑩  $3 + 7$

⑳  $5 + 5$


|           |                      |         |
|-----------|----------------------|---------|
| さんすう 第1学年 | 【あわせていくつ<br>ふえるといくつ】 | 月 日 なまえ |
|-----------|----------------------|---------|



しきにかいてこたえましょう。

- ① しろいはなが4ほん、きいろいはなが3ほんさいています。あわせてなんほんさいていますか。


しき



こたえ

- ② こどもが3にんいます。そこへ6にんきました。こどもはみんなでなんにんになりましたか。

しき



こたえ



- ③ こたえがおなじかあどを \_\_\_\_\_ でおすびましょう。

$3 + 2$  .

.  $3 + 6$

$1 + 8$  .

.  $2 + 6$

$5 + 2$  .

.  $1 + 4$

$4 + 4$  .

.  $4 + 3$



|           |                      |         |
|-----------|----------------------|---------|
| さんすう 第1学年 | 【のこりはいくつ<br>ちがいはいくつ】 | 月 日 なまえ |
|-----------|----------------------|---------|



ひきざんを しましう。

①  $2 - 1$

⑪  $3 - 1$

②  $8 - 5$

⑫  $7 - 2$

③  $9 - 6$

⑬  $4 - 3$

④  $8 - 7$

⑭  $6 - 4$

⑤  $7 - 4$

⑮  $2 - 2$

⑥  $6 - 2$

⑯  $6 - 6$

⑦  $9 - 7$

⑰  $9 - 9$

⑧  $5 - 4$

⑱  $7 - 0$

⑨  $10 - 4$

⑲  $8 - 0$

⑩  $10 - 2$

⑳  $3 - 0$

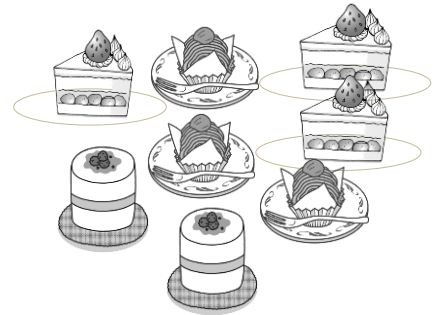
|           |                      |         |
|-----------|----------------------|---------|
| さんすう 第1学年 | 【のこりはいくつ<br>ちがいはいくつ】 | 月 日 なまえ |
|-----------|----------------------|---------|



しきにかいてこたえましょう。

① けえきが8こあります。3こたべると、なんこのこりですか。

しき



こたえ

② ジャムが7こあります。ぱんが9こあります。ジャムとぱんのかずのちがいはいくつですか。

しき



こたえ



③ こたえがおなじかあどを——でおすびましょう。

$10 - 5$

$5 - 1$

$7 - 1$

$9 - 3$

$5 - 2$

$7 - 4$



$8 - 4$

$8 - 3$

|           |           |   |   |     |
|-----------|-----------|---|---|-----|
| さんすう 第1学年 | 【どちらがながい】 | 月 | 日 | なまえ |
|-----------|-----------|---|---|-----|






① ながいほうに○をつけましょう。

|   |          |
|---|----------|
|  | (      ) |
|  | (      ) |







② いちばんながいものに○をつけましょう。

|   |          |
|---|----------|
|    | (      ) |
|    | (      ) |
|  | (      ) |



ながさをくらべてあ、い、う、えでこたえましょう。

|   |  |      |  |   |   |   |  |      |  |
|---|--|------|--|---|---|---|--|------|--|
|   |  | えんぴつ |  |   |   |   |  |      |  |
| あ |  |      |  |   |   |   |  |      |  |
|   |  | くれよん |  |   |   | う |  | けしごむ |  |
| い |   |      |  |   |  |   |  |      |  |
|   |  |      |  | え |   |   |  |      |  |

③ いちばんながいものはどれですか。

④ おなじながさはどれとどれですか。  と

⑤ いちばんみじかいのはどれですか。