

算数 第2学年	【計算のくふう】	月	日	なまえ
---------	----------	---	---	-----



数をよく見て，くふうして計算をしましょう。

① $15 + 20 + 40$

② $7 + 21 + 9$

③ $4 + 65 + 5$

④ $8 + 28 + 2$

⑤ $17 + 31 + 9$

⑥ $39 + 55 + 5$

⑦ $19 + 30 + 20$

⑧ $46 + 40 + 10$

⑨ $27 + 30 + 30$

- ⑩ 校ていで1年生が6人と2年生が13人あそんでいました。それから，2年生が7人きました。校ていには，みんなで何人いますか。

しき

答え

人

算数 第2学年	【計算のくふう】	月	日	なまえ
---------	----------	---	---	-----



くふうして計算をしましょう。

① $24 + 7$

② $55 + 6$

③ $9 + 78$

④ $2 + 89$

⑤ $7 + 65$

⑥ $32 - 9$

⑦ $25 - 8$

⑧ $72 - 7$

⑨ $50 - 6$

⑩ $90 - 9$

算数 第2学年	【たし算とひき算のひっ算】	月	日	なまえ
---------	---------------	---	---	-----



計算をしましょう。

①
$$\begin{array}{r} 95 \\ + 32 \\ \hline \end{array}$$

②
$$\begin{array}{r} 72 \\ + 57 \\ \hline \end{array}$$

③
$$\begin{array}{r} 88 \\ + 61 \\ \hline \end{array}$$

④
$$\begin{array}{r} 31 \\ + 81 \\ \hline \end{array}$$

⑤
$$\begin{array}{r} 62 \\ + 55 \\ \hline \end{array}$$

⑥
$$\begin{array}{r} 55 \\ + 73 \\ \hline \end{array}$$

⑦
$$\begin{array}{r} 86 \\ + 50 \\ \hline \end{array}$$

⑧
$$\begin{array}{r} 43 \\ + 74 \\ \hline \end{array}$$

⑨ としかつくんは、100円 もっています。45円の けしゴムと 29円 の えんぴつを 買います。だ い金は いくら ですか。

しき

答え

	円
--	---



計算をしましょう。

①
$$\begin{array}{r} 83 \\ + 49 \\ \hline \end{array}$$

②
$$\begin{array}{r} 95 \\ + 16 \\ \hline \end{array}$$

③
$$\begin{array}{r} 69 \\ + 51 \\ \hline \end{array}$$

④
$$\begin{array}{r} 45 \\ + 95 \\ \hline \end{array}$$

⑤
$$\begin{array}{r} 64 \\ + 76 \\ \hline \end{array}$$

⑥
$$\begin{array}{r} 87 \\ + 15 \\ \hline \end{array}$$

⑦
$$\begin{array}{r} 25 \\ + 89 \\ \hline \end{array}$$

⑧
$$\begin{array}{r} 96 \\ + 9 \\ \hline \end{array}$$

⑨
$$\begin{array}{r} 6 \\ + 97 \\ \hline \end{array}$$

⑩
$$\begin{array}{r} 5 \\ + 95 \\ \hline \end{array}$$

算数 第2学年	【たし算とひき算のひっ算】	月	日	なまえ
---------	---------------	---	---	-----



計算をしましょう。

①
$$\begin{array}{r} 117 \\ - 76 \\ \hline \end{array}$$

②
$$\begin{array}{r} 126 \\ - 83 \\ \hline \end{array}$$

③
$$\begin{array}{r} 159 \\ - 97 \\ \hline \end{array}$$

④
$$\begin{array}{r} 177 \\ - 82 \\ \hline \end{array}$$

⑤
$$\begin{array}{r} 132 \\ - 51 \\ \hline \end{array}$$

⑥
$$\begin{array}{r} 168 \\ - 93 \\ \hline \end{array}$$

⑦
$$\begin{array}{r} 139 \\ - 79 \\ \hline \end{array}$$

⑧
$$\begin{array}{r} 105 \\ - 34 \\ \hline \end{array}$$

⑨ としかつくくんは、花のたねを 112こ もっています。
今日、22こ うめ子さんにあげました。のこりは、何こ
のこっていますか。

しき

答え

	こ
--	---



計算をしましょう。

①
$$\begin{array}{r} 131 \\ - 42 \\ \hline \end{array}$$

②
$$\begin{array}{r} 125 \\ - 59 \\ \hline \end{array}$$

③
$$\begin{array}{r} 142 \\ - 75 \\ \hline \end{array}$$

④
$$\begin{array}{r} 111 \\ - 73 \\ \hline \end{array}$$

⑤
$$\begin{array}{r} 123 \\ - 26 \\ \hline \end{array}$$

⑥
$$\begin{array}{r} 192 \\ - 94 \\ \hline \end{array}$$

⑦
$$\begin{array}{r} 140 \\ - 82 \\ \hline \end{array}$$

⑧
$$\begin{array}{r} 160 \\ - 95 \\ \hline \end{array}$$

⑨
$$\begin{array}{r} 110 \\ - 49 \\ \hline \end{array}$$

⑩
$$\begin{array}{r} 180 \\ - 86 \\ \hline \end{array}$$

算数 第2学年	【たし算とひき算のひっ算】	月	日	なまえ
---------	---------------	---	---	-----



計算をしましょう。

①
$$\begin{array}{r} 107 \\ - 49 \\ \hline \end{array}$$

②
$$\begin{array}{r} 103 \\ - 57 \\ \hline \end{array}$$

③
$$\begin{array}{r} 106 \\ - \quad 9 \\ \hline \end{array}$$

④
$$\begin{array}{r} 100 \\ - \quad 4 \\ \hline \end{array}$$

⑤
$$\begin{array}{r} 534 \\ + 29 \\ \hline \end{array}$$

⑥
$$\begin{array}{r} 739 \\ + 16 \\ \hline \end{array}$$

⑦
$$\begin{array}{r} \quad 7 \\ + 359 \\ \hline \end{array}$$

⑧
$$\begin{array}{r} 394 \\ - 41 \\ \hline \end{array}$$

⑨
$$\begin{array}{r} 281 \\ - 43 \\ \hline \end{array}$$

⑩
$$\begin{array}{r} 716 \\ - \quad 8 \\ \hline \end{array}$$

算数 第2学年	【たし算とひき算のひっ算】	月 日 なまえ
---------	---------------	---------



計算をしましょう。

- ① 色紙が 120まい あります。今日、46まい つかいました。
のこりの 色紙は 何まい ですか。

しき

答え まい

- ② さくらさんは、136円の ノートと 45円の えんぴつを
買いました。だいきは いくら ですか。

しき

答え 円

- ③ 79円の ノートを買うのに、100円を出しました。
おつりは 何円 ですか。

しき

答え 円

- ④ こうえんにおとなが 34人、子どもが 58人 います。
こうえんには、あわせて 何人 いますか。

しき

答え 人

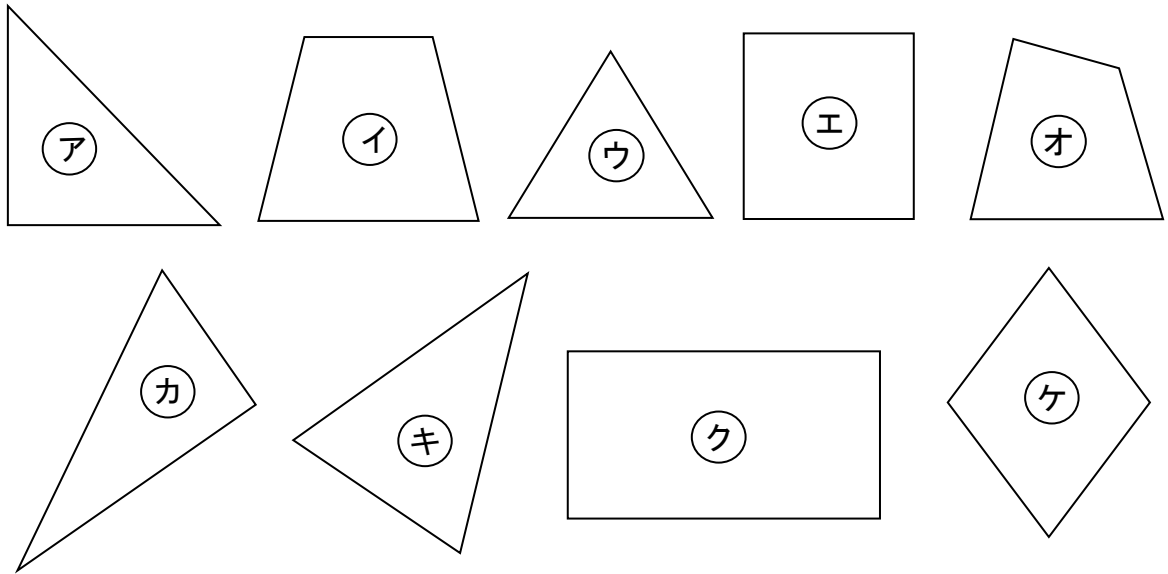
- ⑤ としかつくんは、59円の スナックと 24円の グミを買うので、
100円 はらいました。おつりは いくら ですか。

しき

答え 円

算数 第2学年	【長方形と正方形】	月	日	なまえ
---------	-----------	---	---	-----

問 下の形を見て、答えましょう。




- ① 三角形は どれですか。 _____
- ② 四角形は どれですか。 _____

問 ③ 三角形の ちょう点の 数は _____ つ です。

④ 四角形の ちょう点の 数は _____ つ です。

問 ⑤ 直角は どれですか。

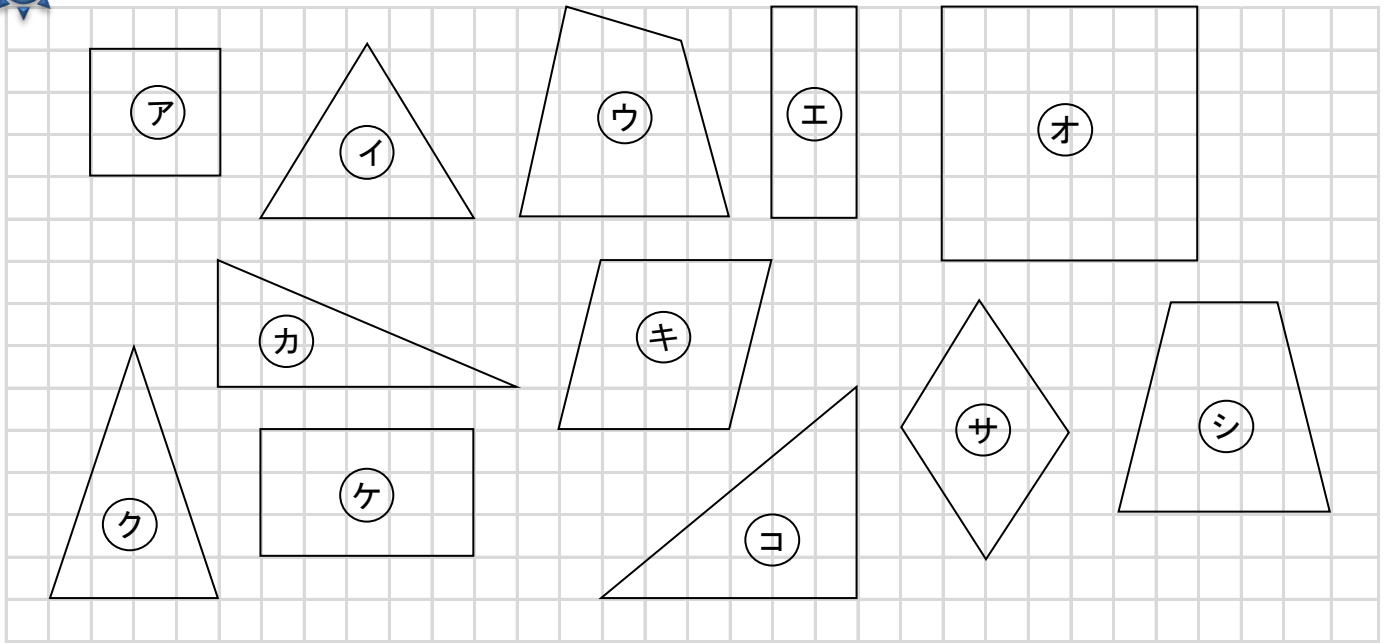


答え

算数 第2学年	【長方形と正方形】	月	日	なまえ
---------	-----------	---	---	-----



下の形を見て、答えましょう。



① 長方形は どれですか。

② 正方形は どれですか。

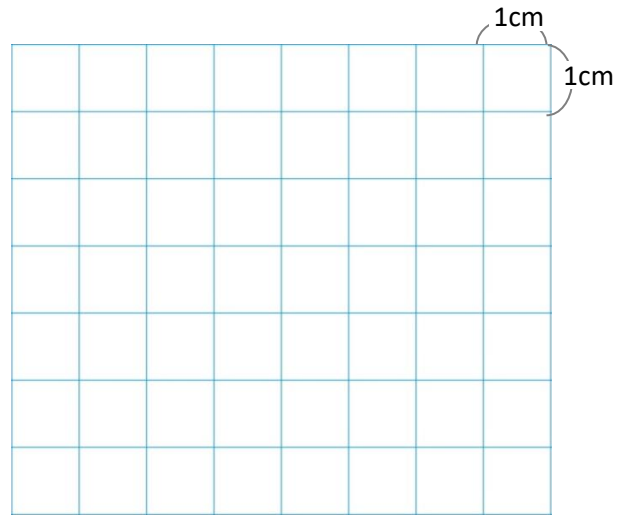
③ 直角三角形は どれですか。

算数 第2学年	【長方形と正方形】	月	日	なまえ
---------	-----------	---	---	-----



つぎの形を 方がん紙に かきましょう。

① たて 3 cm, よこ 5 cm の 長方形



② 1つの へんの 長さが 4 cm の 正方形



③ 直角になる 2つの へんの 長さが, 2 cm と 5 cm の 直角三角形



算数 第2学年	【かけ算(1)】	月 日 なまえ
---------	----------	---------

問 かけ算のしきに書いて答えをもとめましょう。

①  の2つ分
しき

答え 本

② 5 cmの6ばい
しき

答え cm

問 答えを書きましょう。

③ 五二 ⑫ 5 × 3

④ 五 六 ⑬ 5 × 6

⑤ 五 八 ⑭ 5 × 2

⑥ 五 三 ⑮ 5 × 9

⑦ 五 九 ⑯ 5 × 1

⑧ 五 五 ⑰ 5 × 7

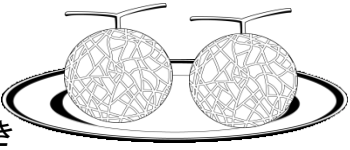
⑨ 五 一 ⑱ 5 × 4

⑩ 五 四 ⑲ 5 × 8

⑪ 五 七 ⑳ 5 × 5

算数 第2学年	【かけ算(1)】	月 日 なまえ
---------	----------	---------

問 かけ算のしきに書いて答えをもとめましょう。

①  の4つ分
しき

答え こ

② 車2台の6ばい
しき

答え 台

問 答えを書きましょう。

③ にし 二四 ⑫ 2×1

④ にろく 二六 ⑬ 2×5

⑤ にさんが 二三 ⑭ 2×6

⑥ にはち 二八 ⑮ 2×2

⑦ ににんが 二二 ⑯ 2×7

⑧ にく 二九 ⑰ 2×3


⑨ にいちが 二一 ⑱ 2×9

⑩ にしち 二七 ⑲ 2×4

⑪ にご 二五 ⑳ 2×8

算数 第2学年	【かけ算(1)】	月 日 なまえ
---------	----------	---------

問 かけ算のしきに書いて答えをもとめましょう。

①  の5つ分
しき

答え

② 本3さつの8ばい
しき


答え

問 答えを書きましょう。

- | | | | |
|---|-------------|---|--------------|
| ③ | さんにが
三二 | ⑫ | 3×1 |
| ④ | さぶろく
三六 | ⑬ | 3×5 |
| ⑤ | さざんが
三三 | ⑭ | 3×6 |
| ⑥ | さんば
三八 | ⑮ | 3×2 |
| ⑦ | さんし
三四 | ⑯ | 3×7 |
| ⑧ | さんく
三九 | ⑰ | 3×3 |
| ⑨ | さんいちが
三一 | ⑱ | 3×9 |
| ⑩ | さんしち
三七 | ⑲ | 3×4 |
| ⑪ | さんご
三五 | ⑳ | 3×8 |

算数 第2学年	【かけ算(1)】	月 日 なまえ
---------	----------	---------

問 かけ算のしきに書いて答えをもとめましょう。

①  の 9 つ分
しき

答え

② あめ 4 この 5 ばい
しき

答え

問 答えを書きましょう。

③ しし
四 四

⑫ 4×1

④ しろく
四 六

⑬ 4×5

⑤ しさん
四 三

⑭ 4×6

⑥ しは
四 八

⑮ 4×2

⑦ しにが
四 二

⑯ 4×7

⑧ しく
四 九

⑰ 4×3

⑨ しいちが
四 一

⑱ 4×9

⑩ ししち
四 七

⑲ 4×4

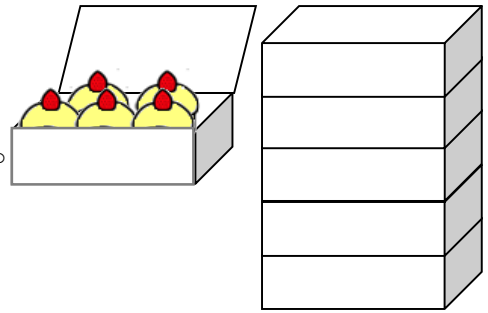
⑪ しご
四 五

⑳ 4×8

算数 第2学年	【かけ算(1)】	月 日 なまえ
---------	----------	---------

問 かけ算のしきに書いて、答えをもとめましょう。


- ① ケーキが5こずつ入ったはこが6はこあります。
 ケーキはぜんぶでなんこありますか。



しき

答え こ

- ② 1さらにすしが2こずつのっています。
 4さらたべるとぜんぶで何こたべますか。



しき

答え こ

- ③ 3こ入りのプリンが7セットあります。
 プリンは、ぜんぶで何こですか。



しき

答え こ

- ④ 4本入りのペンがあります。8セット買うと
 ペンは、全部で何本ですか。




しき

答え 本

算数 第2学年	【かけ算(2)】	月 日 なまえ
---------	----------	---------

問 かけ算のしきに書いて答えをもとめましょう。

①  の3つ分
しき

答え 本

② 6 cmの6ばい
しき

答え cm

問 答えを書きましょう。

③ ろくし
六四

⑫ 6×1

④ ろくろく
六六

⑬ 6×5

⑤ ろくさん
六三

⑭ 6×6

⑥ ろくは
六八

⑮ 6×2

⑦ ろくに
六二

⑯ 6×7

⑧ ろっく
六九

⑰ 6×3

⑨ ろくいちが
六一

⑱ 6×9

⑩ ろくしち
六七

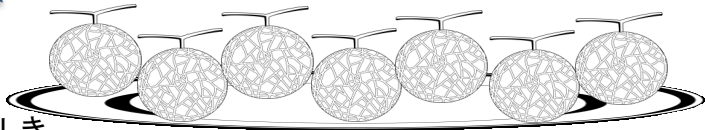
⑲ 6×4

⑪ ろくご
六五

⑳ 6×8

算数 第2学年	【かけ算(2)】	月 日 なまえ
---------	----------	---------

問 かけ算のしきに書いて答えをもとめましょう。

①  の4つ分
しき

答え

② れもん 7この 8ばい
しき

答え

問 答えを書きましょう。

③ しちし 七 四 ⑫ 7×1

④ しちろく 七 六 ⑬ 7×5

⑤ しちさん 七 三 ⑭ 7×6

⑥ しちは 七 八 ⑮ 7×2

⑦ しちに 七 二 ⑯ 7×7

⑧ しちく 七 九 ⑰ 7×3


⑨ しちいちが 七 一 ⑱ 7×9

⑩ しちしち 七 七 ⑲ 7×4

⑪ しちご 七 五 ⑳ 7×8

算数 第2学年	【かけ算(2)】	月 日 なまえ
---------	----------	---------

問 かけ算のしきに書いて答えをもとめましょう。

①  の2つ分
しき

答え

② 本8さつの5ばい
しき


答え

問 答えを書きましょう。

- | | | | |
|---|-------------|---|--------------|
| ③ | はちし
八四 | ⑫ | 8×1 |
| ④ | はちろく
八六 | ⑬ | 8×5 |
| ⑤ | はちさん
八三 | ⑭ | 8×6 |
| ⑥ | はっぱ
八八 | ⑮ | 8×2 |
| ⑦ | はちに
八二 | ⑯ | 8×7 |
| ⑧ | はっく
八九 | ⑰ | 8×3 |
| ⑨ | はちいちが
八一 | ⑱ | 8×9 |
| ⑩ | はちしち
八七 | ⑲ | 8×4 |
| ⑪ | はちご
八五 | ⑳ | 8×8 |

算数 第2学年	【かけ算(2)】	月 日 なまえ
---------	----------	---------

問 かけ算のしきに書いて答えをもとめましょう。

①  の4つ分

しき

答え

② 本9さつの6ばい


しき

答え

問 答えを書きましょう。

- | | | | |
|---|------------|---|--------------|
| ③ | くし
九四 | ⑫ | 9×1 |
| ④ | くろく
九六 | ⑬ | 9×5 |
| ⑤ | くさん
九三 | ⑭ | 9×6 |
| ⑥ | くは
九八 | ⑮ | 9×2 |
| ⑦ | くに
九二 | ⑯ | 9×7 |
| ⑧ | くく
九九 | ⑰ | 9×3 |
| ⑨ | くいちが
九一 | ⑱ | 9×9 |
| ⑩ | くしち
九七 | ⑲ | 9×4 |
| ⑪ | くご
九五 | ⑳ | 9×8 |

算数 第2学年	【かけ算(2)】	月 日 なまえ
---------	----------	---------

 にあてはまる数をかきましょう。


① $5 \times 8 = 5 \times 7 +$

② $9 \times 4 = 9 \times 3 +$

 答えが同じになるしきを線で、おすびましょう。

③

9×7	・	8×6
7×8	・	8×7
6×8	・	7×9
	・	6×7

 答えが次の数になる九九のしきをぜんぶ書きましょう。

④ 8

⑤ 24

⑥ 42