




好学チャレンジ【 第 1 学年 算数 】

1-1 【なかまづくりとかず】

- ② 2 ③ 4
- ④ 6 ⑤ 8
- ⑥ 10 ⑦ 1
- ⑧ 3 ⑨ 5 ⑩ 8

1-2 【なかまづくりとかず】

- ① 8 6
 (○) ()
- ②  
 () (○)
- ③  5
 () (○)
- ④

3

4

5

6

7

8

- ⑤

2

3

4

5

6

7

8

9

1-3 【なかまづくりとかず】

- ①

	5	
3		2

 ②

	6	
4		2
- ③

	6	
1		5

 ④

	7	
3		4
- ⑤

	7	
1		6

 ⑥

	8	
5		3
- ⑦

	8	
2		6

 ⑧

	9	
4		5

1-4 【なかまづくりとかず】

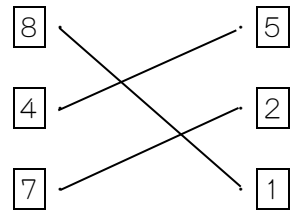
- ①

5	4	3	7	1
6	5	8	9	2
9	6	2	4	5
1	3	4	7	8
2	6	9	3	5
- ②

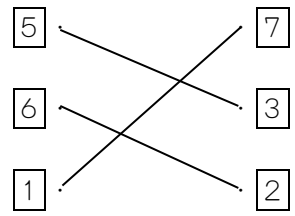
7	5	3	7	1
6	5	8	7	9
9	1	2	4	5
3	4	9	6	8
2	6	7	3	2
- ③

5	4	1	7	6
6	8	5	9	2
9	6	2	5	8
7	1	3	7	8
2	8	4	6	5

④ 2まいを——でおすんで、9にしましょう。



⑤ 2まいを——でおすんで、8にしましょう。



好学チャレンジ【 第 1 学年 算数 】

1-5【なんばんめ】

★ なんばんめでしょう。

	① はうえから 7ばんめ ② はしたから 3ばんめ ③ はうえから 1ばんめ ④ はしたから 6ばんめ
--	--

★ いろをぬりましょう。

- (まえ) ○○○○○●○○○○ (うしろ)
 (まえ) ○○○○○○○○○●○ (うしろ)
 (まえ) ○○○○○○○○○●○ (うしろ)

★ おはなしをつくりましょう。

(ひだり)		(みぎ)
⑧	は(ひだり)から(3)ばんめ は(みぎ)から(5)ばんめ	
⑨	は(ひだり)から(5)ばんめ は(みぎ)から(3)ばんめ	
⑩	は(ひだり)から(2)ばんめ は(みぎ)から(6)ばんめ	

1-6【どのようにかわるかな】

① 5は、どのようにかわるかな。

- | | |
|--------|-------------------|
| ●○○○○○ | ●が(1)こ、○が(4)こ |
| ●●○○○○ | ●が(2)こ、○が(3)こ |
| ●●●○○○ | ●が(3)こ、○が(2)こ |
| ●●●●○○ | ●が(4)こ、○が(1)こ |

1-6【どのようにかわるかな】 つづき

② 7は、

●○○○○○○○	1 と 6
●●○○○○○○	2 と 5
●●●○○○○○	3 と 4
●●●●○○○○	4 と 3
●●●●●○○○	5 と 2
●●●●●●○○	6 と 1

③ 9は、

●○○○○○○○○○	1 と 8
●●○○○○○○○○	2 と 7
●●●○○○○○○○	3 と 6
●●●●○○○○○○	4 と 5
●●●●●○○○○○	5 と 4
●●●●●●○○○○	6 と 3
●●●●●●●○○○	7 と 2
●●●●●●●●○○	8 と 1

1-7【あわせていくつ ふえるといくつ】

- | | |
|------|------|
| ① 5 | ⑪ 10 |
| ② 6 | ⑫ 9 |
| ③ 9 | ⑬ 5 |
| ④ 9 | ⑭ 7 |
| ⑤ 9 | ⑮ 5 |
| ⑥ 6 | ⑯ 9 |
| ⑦ 8 | ⑰ 10 |
| ⑧ 6 | ⑱ 8 |
| ⑨ 10 | ⑲ 4 |
| ⑩ 10 | ⑳ 10 |

1-8【あわせていくつ ふえるといくつ】

① $4 + 3 = 7$

7ほん

② $3 + 6 = 9$

9にん

③

$3 + 2$		$3 + 6$
$1 + 8$		$2 + 6$
$5 + 2$		$1 + 4$
$4 + 4$		$4 + 3$

好学チャレンジ【 第 1 学年 算数 】

1-9 【のこりはいくつ ちがいはいくつ】

- | | |
|-----|-----|
| ① 1 | ⑪ 2 |
| ② 3 | ⑫ 5 |
| ③ 3 | ⑬ 1 |
| ④ 1 | ⑭ 2 |
| ⑤ 3 | ⑮ 0 |
| ⑥ 4 | ⑯ 0 |
| ⑦ 2 | ⑰ 0 |
| ⑧ 1 | ⑱ 7 |
| ⑨ 6 | ⑲ 8 |
| ⑩ 8 | ⑳ 3 |


1-10 【のこりはいくつ ちがいはいくつ】

- ① (しき) $8 - 3 = 5$ (こたえ) 5こ
 ② (しき) $9 - 7 = 2$ (こたえ) 2こ
 ③




$10 - 5$		$5 - 1$
$7 - 1$		$9 - 3$
$5 - 2$		$7 - 4$
$8 - 4$		$8 - 3$

1-11 【どちらがながい】

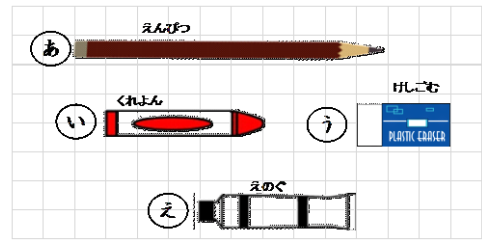
★①ながい ほうに ○をつけましょう。

	(○)
	()

★②いちばん ながいものに ○をつけましょう。

	()
	()
	(○)

★ながさをくらべて あ, い, う, え で こたえましょう。



- ③いちばんながいもの → あ
 ④おなじながさのもの → い と え
 ⑤いちばんみじかいもの → う