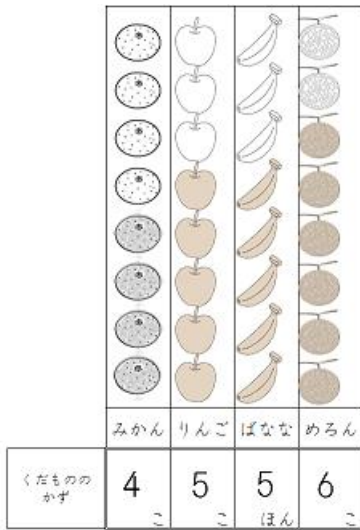


好学チャレンジ【 第1学年（2学期）算数 】

1-12【わかりやすくせりしよう】

① くだもののかずだけいろをぬり、かずをかきましよう。



- ② めろん
③ みかん
④ りんご（と）ばなな


1-13【10より大きいかず】

- ① 14 ⑥ 3
② 17 ⑦ 1
③ 15 ⑧ 8
④ 16 ⑨ 10
⑤ 12 ⑩ 10

① かずのおおきいほうに ○をつけましよう。

14 17
() (○)

② かずがならんでいます。□にあうかずをかきましよう。



- ③ 16
④ 15
⑤ 12

1-14【10より大きいかず】

- ① 27
② 30
③ 30 と 6 → 36
④ 30 と 3 → 33
⑤ (10が) 4 (こ) → 40

1-15【10より大きいかず】

- | | |
|------|------|
| ① 19 | ⑪ 16 |
| ② 19 | ⑫ 17 |
| ③ 10 | ⑬ 10 |
| ④ 16 | ⑭ 10 |
| ⑤ 18 | ⑮ 15 |
| ⑥ 18 | ⑯ 18 |
| ⑦ 19 | ⑰ 16 |
| ⑧ 12 | ⑱ 13 |
| ⑨ 16 | ⑲ 12 |
| ⑩ 12 | ⑳ 14 |

1-16【なんじ なんじはん】

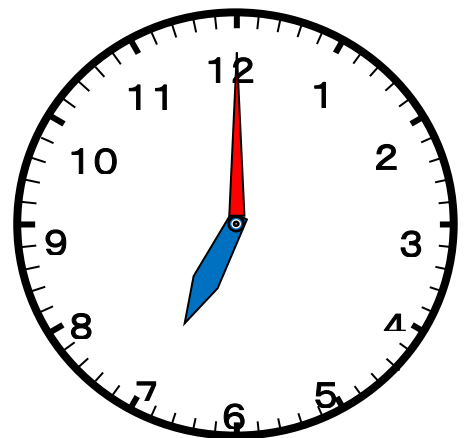
- ① 2じ
② 11じ
③ 4じ
④ 9じはん
⑤ 12じはん

1-17【なんじ なんじはん】


- ① 8じ
② 10じ
③ 5じ
④ 6じはん
⑤ 3じはん

1-18【なんじ なんじはん】

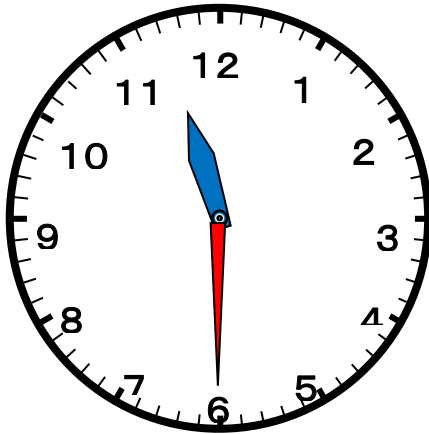
- ① 7じ



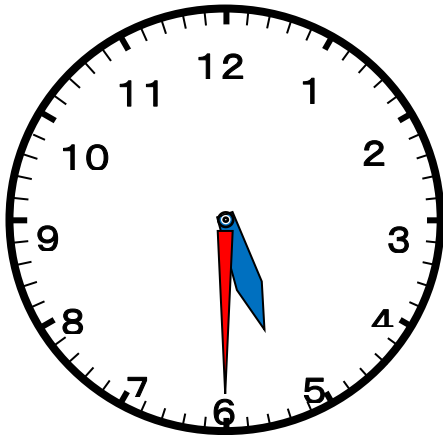
②10じ



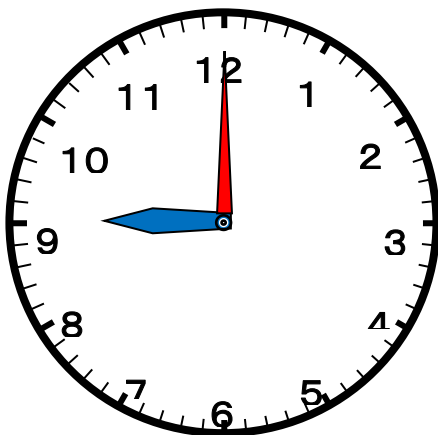
③11じはん



④5じはん



⑤9じ

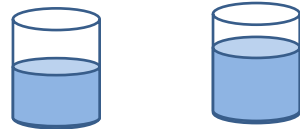


1-19【3つのかずのけいさん】

- | | | | |
|---|----|---|---|
| ① | 6 | ⑪ | 7 |
| ② | 8 | ⑫ | 7 |
| ③ | 11 | ⑬ | 2 |
| ④ | 15 | ⑭ | 9 |
| ⑤ | 14 | ⑮ | 6 |
| ⑥ | 3 | ⑯ | 1 |
| ⑦ | 2 | ⑰ | 9 |
| ⑧ | 5 | ⑱ | 1 |
| ⑨ | 3 | ⑲ | 2 |
| ⑩ | 4 | ⑳ | 7 |

1-20【どちらがおおい】

★①みずが おおくはいつているほうに○をつけましょう。



() (○)

★②どちらがどれだけおおくはいますか。

あ コップで5はい


い コップで7はい

こたえ

い のほうがこップ2はいぶん おおくはいる。

★③いちばんみずがおおくはいるのはどれですか。

こたえ…い



好学チャレンジ【 第1学年（2学期）算数 】

1-21【たしざん】

- | | |
|-------|-------|
| ① 1 1 | ⑪ 1 1 |
| ② 1 1 | ⑫ 1 2 |
| ③ 1 2 | ⑬ 1 2 |
| ④ 1 4 | ⑭ 1 1 |
| ⑤ 1 3 | ⑮ 1 4 |
| ⑥ 1 4 | ⑯ 1 2 |
| ⑦ 1 1 | ⑰ 1 6 |
| ⑧ 1 8 | ⑱ 1 5 |
| ⑨ 1 3 | ⑲ 1 6 |
| ⑩ 1 3 | ⑳ 1 5 |

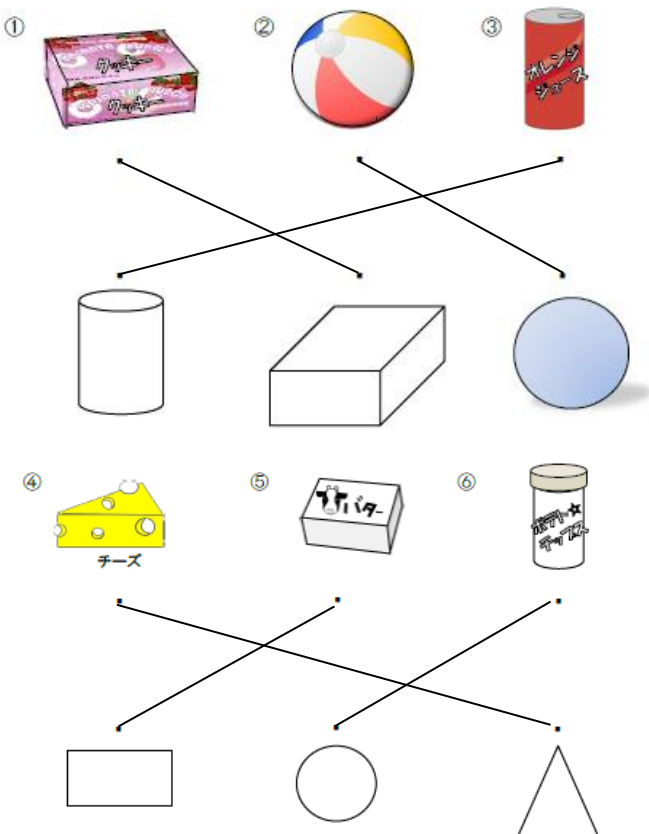
1-22【たしざん】

- | | |
|------------------|-----------------|
| ①しき $5 + 9 = 14$ | こたえ <u>14ひき</u> |
| ②しき $6 + 7 = 13$ | こたえ <u>13にん</u> |
| ③しき $3 + 9 = 12$ | こたえ <u>12こ</u> |

1-23【たしざん】

- | | |
|------------------|-----------------|
| ①しき $4 + 7 = 11$ | こたえ <u>11こ</u> |
| ②しき $8 + 6 = 14$ | こたえ <u>14ひき</u> |

1-24【かたちあそび】



1-25【ひきざん】

- | | |
|-----|-----|
| ① 4 | ⑪ 6 |
| ② 9 | ⑫ 9 |
| ③ 7 | ⑬ 2 |
| ④ 6 | ⑭ 9 |
| ⑤ 6 | ⑮ 8 |
| ⑥ 6 | ⑯ 9 |
| ⑦ 5 | ⑰ 9 |
| ⑧ 4 | ⑱ 9 |
| ⑨ 4 | ⑲ 8 |
| ⑩ 8 | ⑳ 8 |

1-26【ひきざん】

- | | |
|-------------------|----------------|
| ① しき $15 - 6 = 9$ | こたえ <u>9こ</u> |
| ② しき $16 - 7 = 9$ | こたえ <u>9ほん</u> |
| ③ しき $18 - 9 = 9$ | こたえ <u>9まい</u> |

1-27【ひきざん】

- | | |
|------------------|--------------------|
| ①しき $14 - 8 = 6$ | こたえ <u>くりが6こおい</u> |
| ②しき $12 - 5 = 7$ | こたえ <u>7こ</u> |