



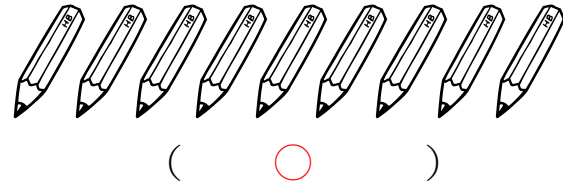

小学校 1年 くみ ばん なまえ ( )

点

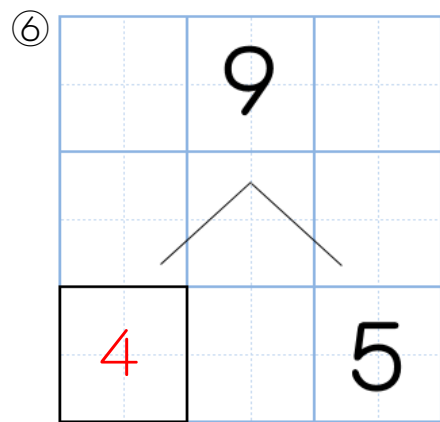
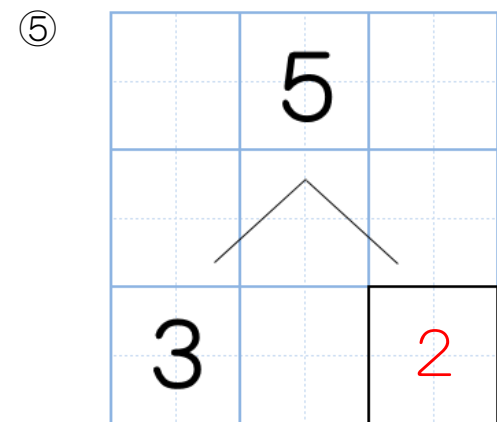

☆かずをかぞえて、すうじをかきましょう。



☆かずのおおいほうに○をつけましょう。



☆□にあうかずをかきましょう。



☆2つのかずで10をつくります。たて、よこ、ななめでみつけて、○でかこみましょう。



☆いろをぬりましょう。

- ⑧ まえから6ばんめ (まえ) ○○○○○●○○○○ (うしろ)  
 まえから9ばんめ (まえ) ○○○○○○○○○●○ (うしろ)  
 うしろから2ばんめ (まえ) ○○○○○○○○○●○ (うしろ)

☆5は、どのようにかわるかな。

- ⑨ ● ○ ○ ○ ○ ●が( 1 )こ, ○が( 4 )こ  
 ● ● ○ ○ ○ ●が( 2 )こ, ○が( 3 )こ  
 ● ● ● ○ ○ ●が( 3 )こ, ○が( 2 )こ  
 ● ● ● ● ○ ●が( 4 )こ, ○が( 1 )こ  
 ● ● ● ● ● ●が( 5 )こ, ○が( 0 )こ

☆うらにも もんだいがあります。


☆たしざんを しましょう。

⑩  $2 + 6 = 8$     ⑪  $5 + 0 = 5$     ⑫  $9 + 1 = 10$

⑬ こどもが 3にん います。そこへ 6にん きました。こどもは みんなで なんにん になりましたか。

しき

$3 + 6 = 9$



こたえ

9にん

☆ひきざんを しましょう。

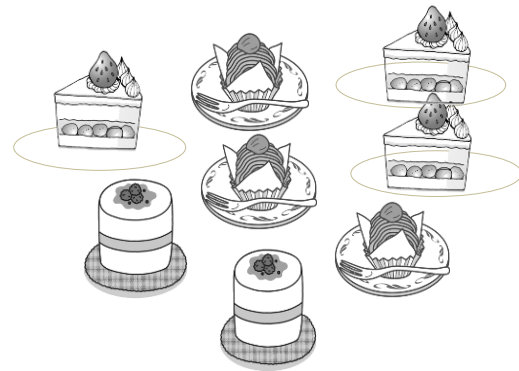
⑭  $7 - 4 = 3$     ⑮  $9 - 9 = 0$     ⑯  $8 - 0 = 8$

☆しきにかいて 答えましょう。

⑰ けえきが 8こ あります。3こ たべると、なんこ のこりますか。

しき

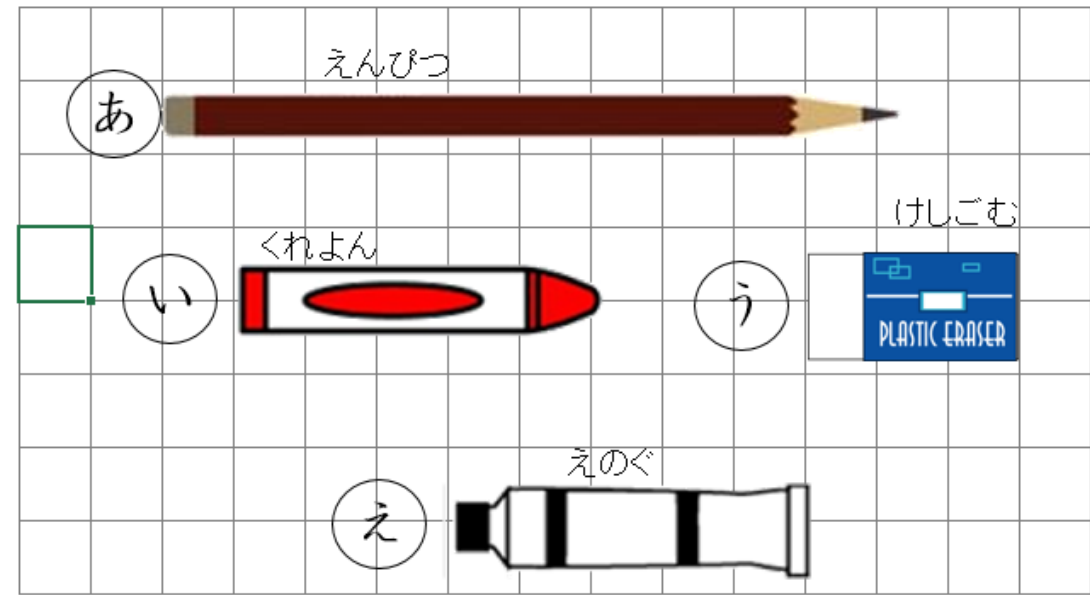
$8 - 3 = 5$



こたえ

5こ

☆ながさを くらべて あ、い、う、え で 答えましょう。



⑱ いちばん ながいものは どれですか。

あ

⑲ おなじ ながさは どれとどれですか。

い

と

え

⑳ いちばん みじかいのは どれですか。

う

☆おわったら もういちど 答えを みなおしましょう。