

小学校 1年 くみ ばん なまえ ( )


点

☆けいさんをしましょう。

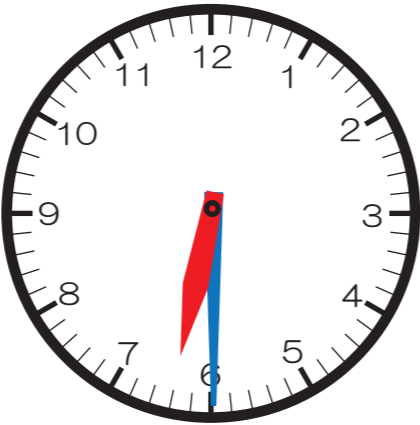
- ①  $18 + 1$
- ②  $14 - 2$
- ③  $10 + 7$
- ④  $16 - 3$

☆なんじですか。または、なんじはん ですか。

⑤




⑥



☆ながいはりをかきましょう。

⑦ 10じ



⑧ 5じはん




☆けいさんをしましょう。

- ⑨  $9 + 1 + 4$
- ⑩  $10 - 8 + 4$
- ⑪  $9 + 2$
- ⑫  $7 + 8$
- ⑬  $13 - 8$
- ⑭  $14 - 6$

☆しきにかいて 答えましょう。

- ⑮ おおきなかめが 5ひきいます。ちいさなかめが 9ひきいます。かめは、ぜんぶで なんびきいますか。

しき




こたえ

ひき

☆しきにかいて ことえましょう。

⑩ たまごがパックに 4こ あります。もうひとつの パックに 7こ あります。あわせて なんこ ありますか。

しき




ことえ

こ

⑪ けえきが 15こ あります。6こ たべると、のこりは なんこ ですか。

しき




ことえ

こ

⑫ くりが 14こ あります。かきが 8こ あります。どちらが、なんこ おおい でしょうか。

しき



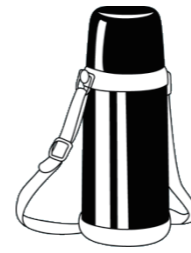
ことえ

が

こ おおい

⑬ みずが いちばん おおく はいるのは どれ ですか。

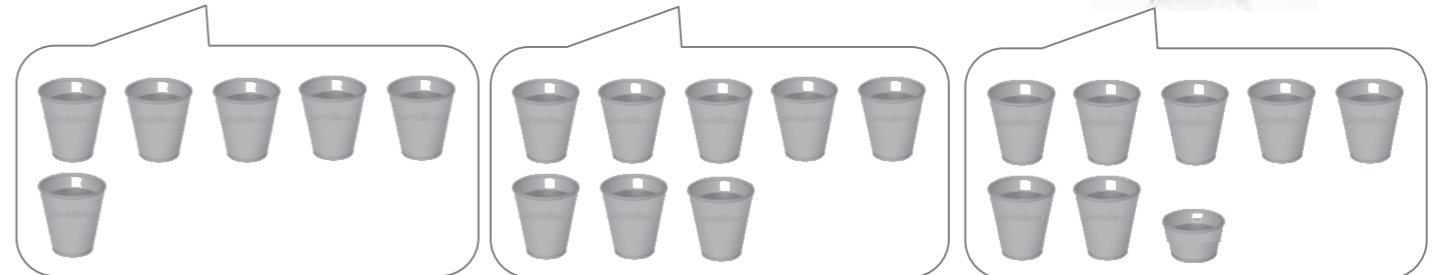
あ



い



う



ことえ

⑭ おなじかたちの なかまを したから みつけ 〃で おすび しましょう。

あ



い



う



・

・

・

・

・

・

