

小学校 2年 組 番 名前 ( )

点

☆ ひっ算で計算をしましょう。

① 
$$\begin{array}{r} 24 \\ + 36 \\ \hline \end{array}$$

② 
$$\begin{array}{r} 87 \\ + 39 \\ \hline \end{array}$$

③ 
$$\begin{array}{r} 534 \\ + 28 \\ \hline \end{array}$$

④ 
$$\begin{array}{r} 97 \\ - 65 \\ \hline \end{array}$$

⑤ 
$$\begin{array}{r} 126 \\ - 83 \\ \hline \end{array}$$

⑥ 
$$\begin{array}{r} 281 \\ - 43 \\ \hline \end{array}$$

☆ 計算をしましょう。

⑦ 118円のノートと54円のえんぴつを買いました。  
 だいはいくらですか。

しき

円

ひっ算



☆ かけ算をしましょう。

⑧  $4 \times 7$

⑨  $6 \times 4$

⑩  $8 \times 6$

⑪  $2 \times 6$

⑫  $9 \times 5$

⑬  $3 \times 7$

☆ かけ算のしきに書いて、答えをもとめましょう。

⑭ 花たばを5たば つくります。  
 3本ずつたばにすると、花はぜんぶで  
 何本ひつようですか。



しき

こたえ

本

☆ □にあてはまる数を書きましょう。

⑮ 350は、10を  こ、あつめた数です。

⑯ 275は、200と  と5をあわせた数です。

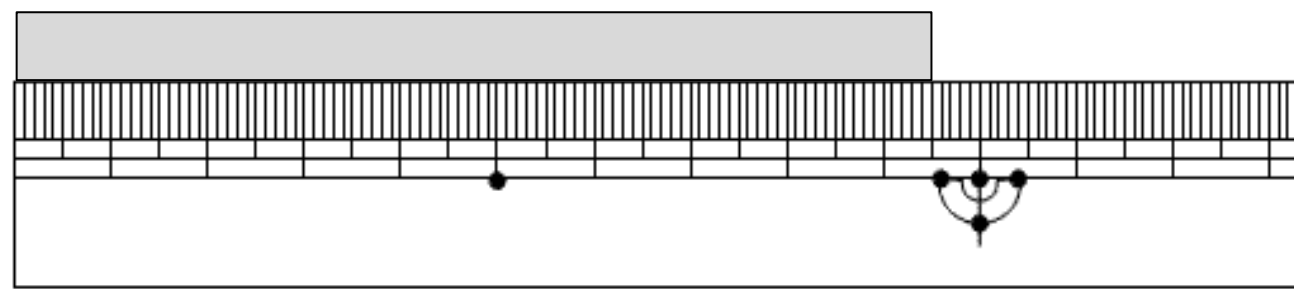
(うらにも問題があります。)

☆ □にあてはまる数を書きましょう。

⑰ 1時間 =  分

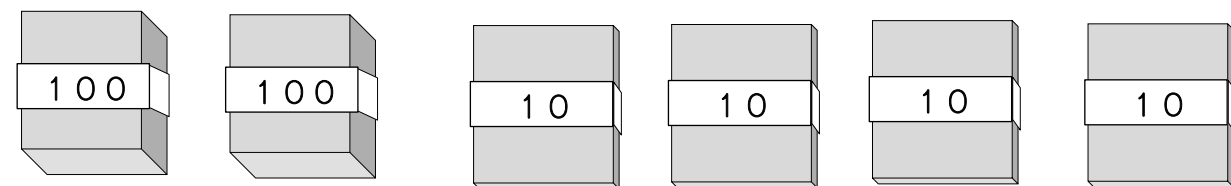
☆ つぎのもんだいをときましょう。

⑱ 下のテープの長さは何cm何mmでしょう。



cm       mm

⑲ 色紙の数を数字で書きましょう。

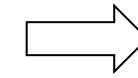
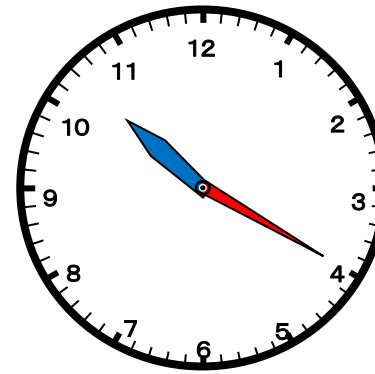


まい

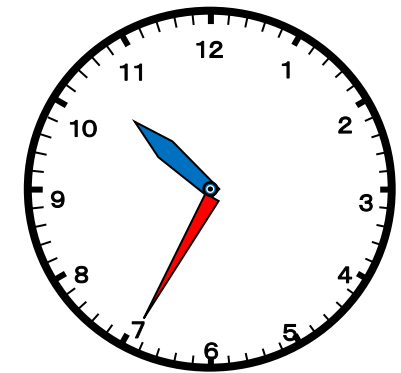
⑳ こうえんに きました。

いえを出てから、こうえんにつくまでの時間は、何分でしょう。

いえを出た時こく



こうえんについた時こく



分間