

小学校 2年 くみ ばん なまえ ( )

点

☆くふうして計算をしましょう。

①  $17 + 31 + 9 = 57$

$$\begin{array}{r} 17 \\ 31 \\ + 9 \\ \hline 57 \end{array}$$

②  $2 + 89 = 91$

$$\begin{array}{r} 2 \\ + 89 \\ \hline 91 \end{array}$$

☆ひっ算で計算をしましょう。

③  $\begin{array}{r} 43 \\ + 74 \\ \hline 117 \end{array}$

④  $\begin{array}{r} 25 \\ + 89 \\ \hline 114 \end{array}$

⑤  $\begin{array}{r} 7 \\ + 359 \\ \hline 366 \end{array}$

⑥  $\begin{array}{r} 192 \\ - 94 \\ \hline 98 \end{array}$

⑦  $\begin{array}{r} 105 \\ - 34 \\ \hline 71 \end{array}$

⑧  $\begin{array}{r} 716 \\ - 8 \\ \hline 708 \end{array}$

☆計算をしましょう。

⑨ ななみさんは、108円のけしごむと45円のえんぴつを買いました。だいはいくらですか。

しき

$108 + 45 = 153$

ひっ算

$$\begin{array}{r} 108 \\ + 45 \\ \hline 153 \end{array}$$

こたえ

153 円

⑩ どんぐりが103こあります。ともだちに38こあげました。のこりは何こですか。

しき

$103 - 38 = 65$

ひっ算

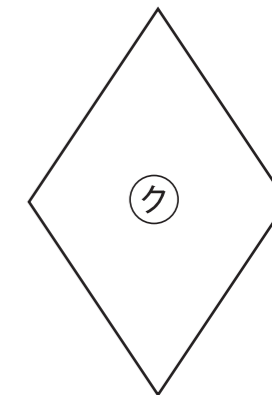
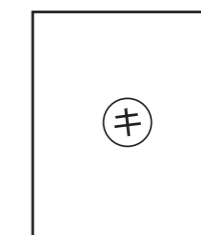
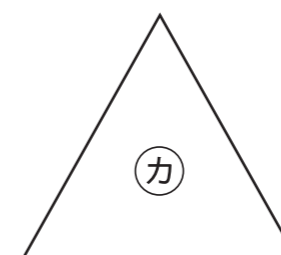
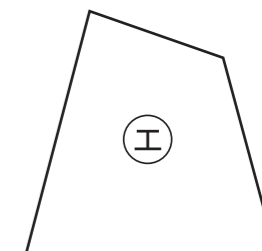
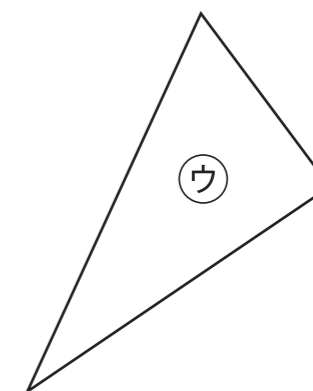
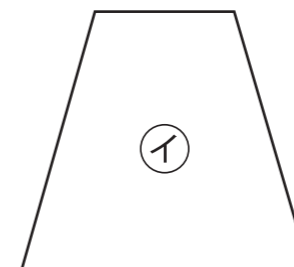
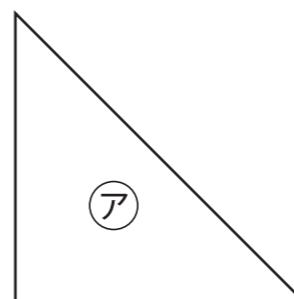
$$\begin{array}{r} 103 \\ - 38 \\ \hline 65 \end{array}$$

こたえ

65

こ

☆下の図を見て、答えましょう。



⑪ 四角形はどれですか。すべてえらびましょう。

こたえ

イ エ オ キ ク

⑫ 直角三角形はどれですか。すべてえらびましょう。

こたえ

ア ウ

(うらにも問題があります)

☆かけ算をしましょう。

⑬  $3 \times 4 = 12$

⑭  $9 \times 6 = 54$

⑮  $8 \times 7 = 56$

⑯  $4 \times 8 = 32$

⑰  $6 \times 5 = 30$


⑱  $7 \times 6 = 42$

☆かけ算のしきに書いて、答えをもとめましょう。

⑲ くりが8こずつ入ったふくろが、5ふくろあります。  
くりはぜんぶで何こありますか。

しき

$8 \times 5 = 40$

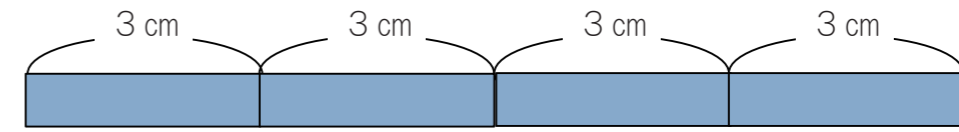


こたえ

40

こ

⑳ 3cmのテープの4倍の長さは何cmですか。



しき

$3 \times 4 = 12$

こたえ

12

cm