

小学校 2年 くみ ばん なまえ ()

点

☆くふうして計算をしましょう。

① $17 + 31 + 9$

② $2 + 89$

☆ひっ算で計算をしましょう。

③
$$\begin{array}{r} 43 \\ + 74 \\ \hline \end{array}$$

④
$$\begin{array}{r} 25 \\ + 89 \\ \hline \end{array}$$

⑤
$$\begin{array}{r} 7 \\ + 359 \\ \hline \end{array}$$

⑥
$$\begin{array}{r} 192 \\ - 94 \\ \hline \end{array}$$

⑦
$$\begin{array}{r} 105 \\ - 34 \\ \hline \end{array}$$

⑧
$$\begin{array}{r} 716 \\ - 8 \\ \hline \end{array}$$

☆計算をしましょう。

⑨ ななみさんは、108円のけしごむと45円のえんぴつを買いました。だいはいくらですか。

しき

ひっ算

こたえ

円

⑩ どんぐりが103こあります。ともだちに38こあげました。のこりは何こですか。

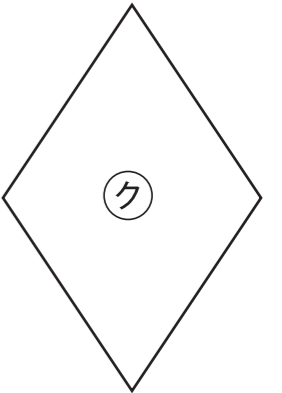
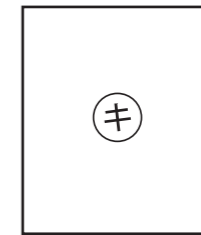
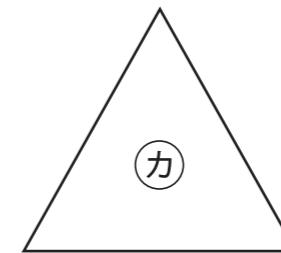
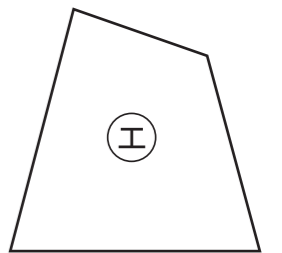
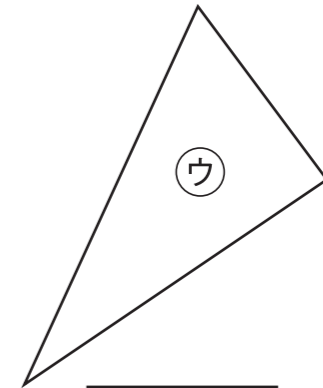
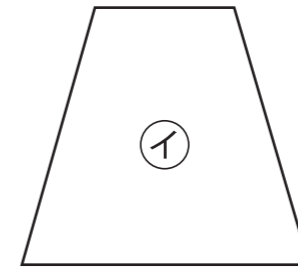
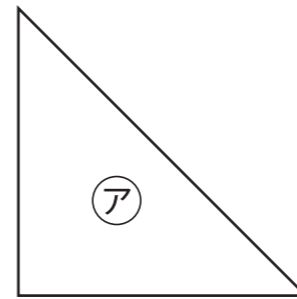
しき

ひっ算

こたえ

こ

☆下の図を見て、答えましょう。



⑪ 四角形はどれですか。すべてえらびましょう。

こたえ

⑫ 直角三角形はどれですか。すべてえらびましょう。

こたえ

(うらにも問題があります)

☆かけ算をしましょう。

⑬ 3×4

⑭ 9×6

⑮ 8×7

⑯ 4×8


⑰ 6×5

⑱ 7×6

☆かけ算のしきに書いて、答えをもとめましょう。

⑲ くりが8こずつ入ったふくろが、5ふくろあります。
くりはぜんぶで何こありますか。

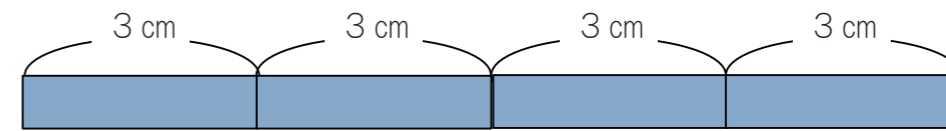
しき



こたえ

こ

⑳ 3 cm のテープの 4 倍の長さは何 cm ですか。



しき

こたえ

 c m