

小学校 2年 組 番 名前 ()

点

☆計算をしましょう。

① $400 + 900 = 1300$

② $1100 - 600 = 500$

☆数字でかきましょう。

③ 五千九 5009

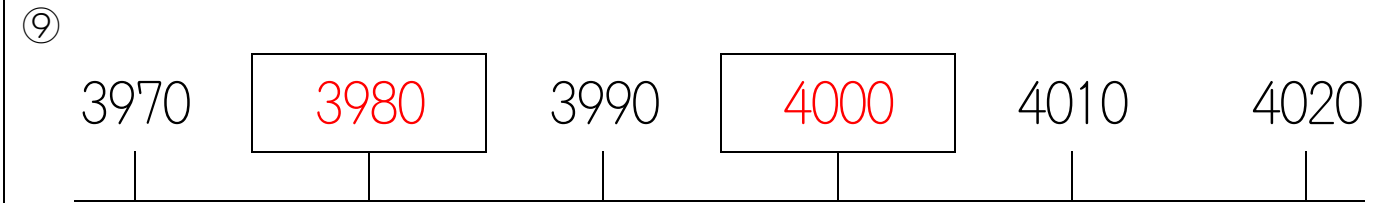
④ 4306 は 1000 を 4 こ
 100 を 3 こ
 10 を 0 こ
 1 を 6 こあつめた数です。

⑤ 6709 の百のくらの数は 7 です。

⑥ 1000 を 2 こ, 100 を 7 こ, 10 を 8 こ,
 合わせた数は 2780 です。

⑦ にあてはまる $>$, $<$ をかきましょう。
 7071 > 7017

⑧ 10000 より 3 ちいさい数 9997



⑩ 506 cm は 5 m 6 cm です。

☆長さのたんいをかきましょう。

⑪ えんぴつの長さ 15 cm

⑫ プールの長さ 25 m

☆計算をしましょう。

⑬ じょうし公園に おとな と こどもが42人います。そのうち おとなは 13人 です。こどもは 何人いますか。
29 人

⑭ おり紙を 18まい もっています。お兄さんから 何まいか もらったので ぜんぶで 35まい になりました。
 お兄さんから おり紙を何まいもらったでしょう。

17 まい

(うらにも もんだいが あります。)

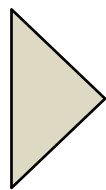
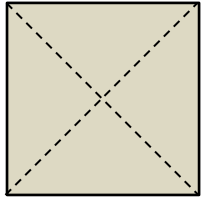
☆計算をしましょう。

⑮ まめが何つぶかありました。23つぶ たべたので のこりが17つぶになりました。はじめに まめは なんつぶありましたか。

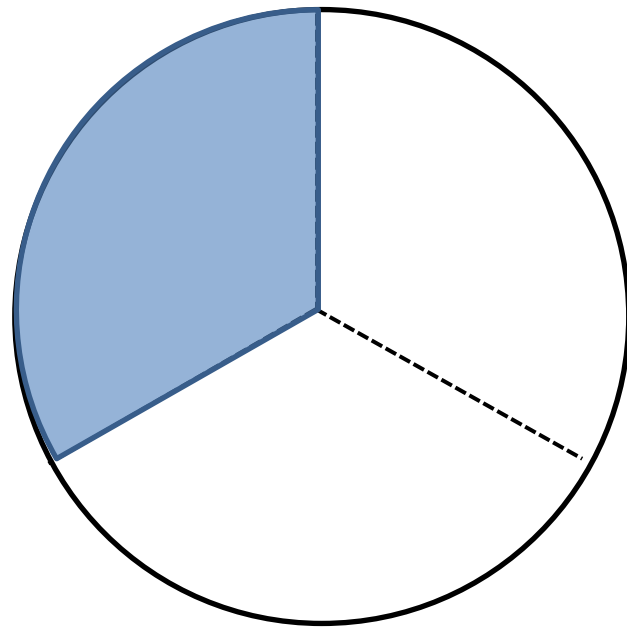
40 つぶ

⑯ カードを 何まいか 買いました。そのうち 弟に 23まい あげたので のこり 27 まい になりました。はじめに カードを何まい買いましたか。

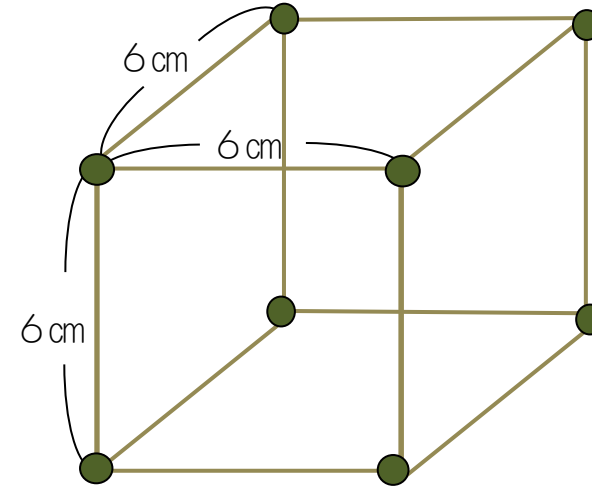
50 まい

⑰  は  の $\frac{\boxed{1}}{\boxed{4}}$ です。

⑱ もとの大きさの $\frac{1}{3}$ だけ色をぬりましょう。



☆ひごとねん土玉で 下のようないろいろの形を作ります。



⑲ 6 cmのひごは 何本 いらいますか。

12 本

⑳ ねん土玉は 何こ いらいますか。

8 こ