

小学校 2年 組 番 名前 ( )

点

☆計算をしましょう。

① 400 + 900

② 1100 - 600

☆数字でかきましょう。

③ 五千九

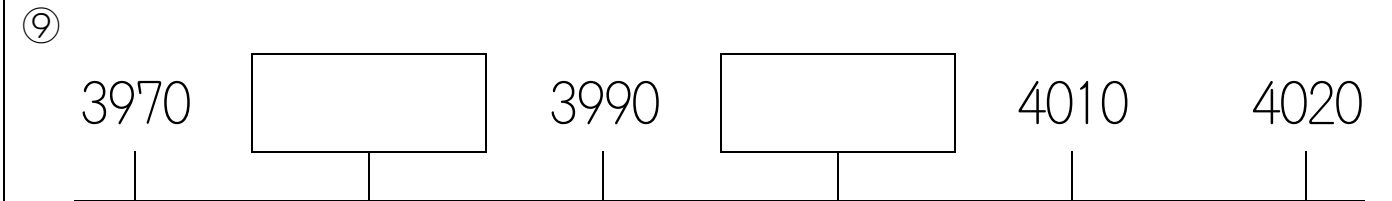
④ 4306 は 1000 を  こ  
100 を  こ  
10 を  こ  
1 を  こあつめた数です。

⑤ 6709 の百のくらの数は  です。

⑥ 1000 を 2 こ, 100 を 7 こ, 10 を 8 こ,  
合わせた数は  です。

⑦  にあてはまる >, < をかきましょう。  
7071  7017

⑧ 10000 より 3 ちいさい数



⑩ 506 cm は  m  cm です。

☆長さのたんいをかきましょう。

⑪ えんぴつの長さ 15

⑫ プールの長さ 25

☆計算をしましょう。

⑬ じょうし公園に おとな と こどもが 42 人います。そのうち おとなは 13 人 です。こどもは 何人いますか。  
 人

⑭ おり紙を 18 まい もっています。お兄さんから 何まいか もらったので ぜんぶで 35 まい になりました。  
お兄さんから おり紙を何まいもらったでしょう。  
 まい

(うらにも もんだいが あります。)

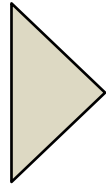
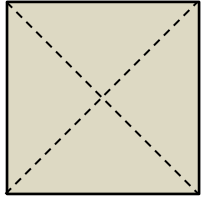
☆計算をしましょう。

⑮ まめが何つぶかありました。23つぶ たべたので のこりが17つぶになりました。はじめに まめは なんつぶありましたか。

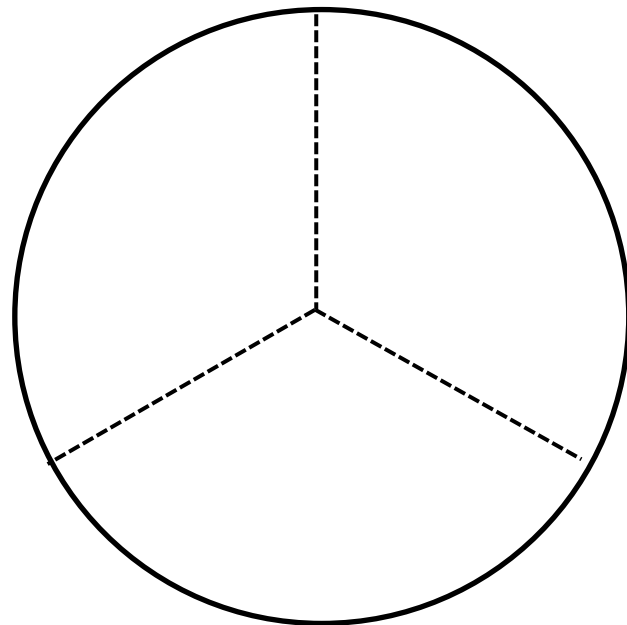
つぶ

⑯ カードを 何まいか 買いました。そのうち 弟に 23まい あげたので のこり 27 まい になりました。はじめに カードを何まい買いましたか。

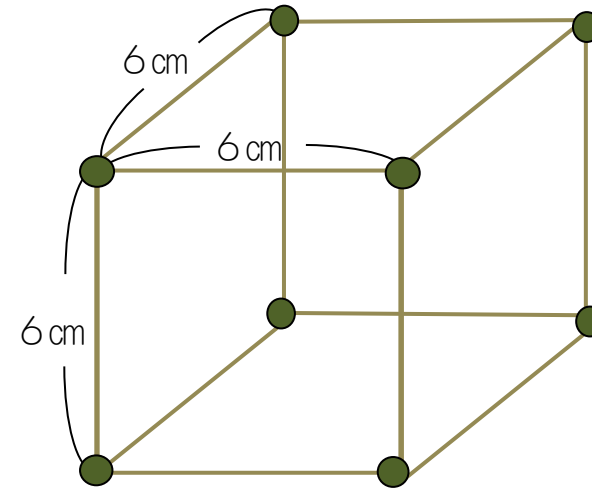
まい

⑰  は  の  $\frac{\quad}{\quad}$  です。

⑱ もとの大きさの  $\frac{1}{3}$  だけ色をぬりましょう。



☆ひごとねん土玉で 下のようないろの形を作ります。



⑲ 6 cmのひごは 何本 いらいますか。

本

⑳ ねん土玉は 何こ いらいますか。

こ