

小学校 3年 組 番 名前 ()

点

☆ 数字で書きましょう。

① 五千七十六万千三百二十九

5	0	7	6	1	3	2	9
---	---	---	---	---	---	---	---

② 1000万を7こ, 100万を5こ, 1万を2こ, 1000を4こあわせた数

7	5	0	2	4	0	0	0
---	---	---	---	---	---	---	---

③ 538を100倍した数

53800

☆ □にあてはまる数をかきましょう。

④ 5kg300g =

5300

 g

⑤ 1050g =

1

 kg

50

 g

☆ ひっ算で計算をしましょう。

⑥
$$\begin{array}{r} 85 \\ \times 7 \\ \hline 595 \end{array}$$

⑦
$$\begin{array}{r} 25 \\ \times 8 \\ \hline 200 \end{array}$$

⑧
$$\begin{array}{r} 354 \\ \times 6 \\ \hline 2124 \end{array}$$

☆ ひっ算で計算をしましょう。

⑨
$$\begin{array}{r} 0.9 \\ + 2.3 \\ \hline 3.2 \end{array}$$

⑩
$$\begin{array}{r} 2.7 \\ + 6.8 \\ \hline 9.5 \end{array}$$

⑪
$$\begin{array}{r} 3.6 \\ - 2.7 \\ \hline 0.9 \end{array}$$

⑫
$$\begin{array}{r} 6 \\ - 1.2 \\ \hline 4.8 \end{array}$$

☆ ()にあてはまる数を書きましょう。

⑬ 7.3は, 7 と (0.3) をあわせた数です。

⑭ 3.8は, 0.1を (38) こあわせた数です。

☆ 計算をしましょう。

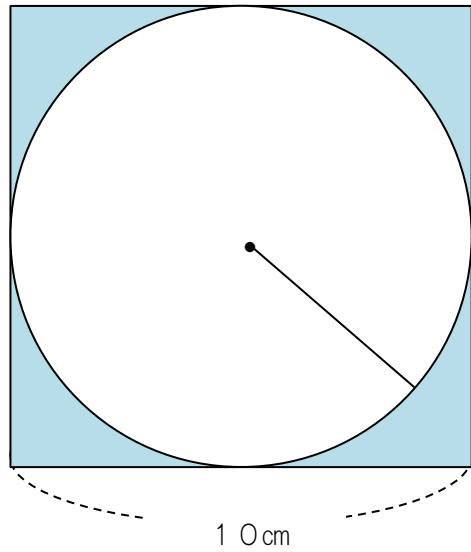
⑮
$$\frac{4}{7} + \frac{2}{7} = \frac{6}{7}$$

⑯
$$1 - \frac{5}{8} = \frac{3}{8}$$

(うらにも問題があります。)

☆ 問題を読んで答えましょう。

- ⑰ 一辺が10cmの正方形があります。この中に、なるべく大きい円をかいて切り取ります。円の半径の長さは何cmにすればよいですか。



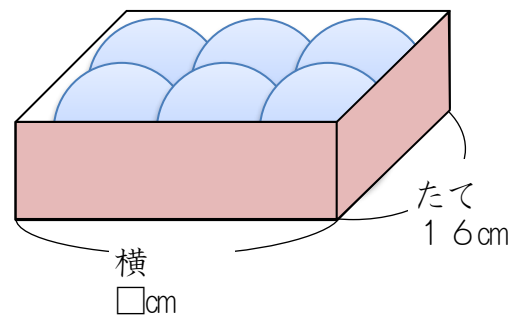
式

$$10 \div 2 (= 5)$$

答え

5 cm

- ⑱ 同じ大きさのボールが箱にぴったり入っています。箱の横の長さは何cmですか。



式

$$16 \div 2 (= 8)$$

$$8 \times 3 (= 24)$$

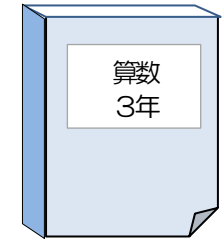
答え

24 cm

☆ () にあてはまる数を書きましょう。

- ⑲ 算数の教科書のあつさ

$$7 \text{ mm} = (0.7) \text{ cm}$$



- ⑳ えんぴつの長さ

$$14 \text{ cm } 7 \text{ mm} = (14.7) \text{ cm}$$

