

小学校 3年 組 番 名前 ()

点

☆ 数字で書きましょう。

① 五千七十六万千三百二十九

--	--	--	--	--	--	--	--	--	--

② 1000万を7こ, 100万を5こ, 1万を2こ, 1000を4こあわせた数

--	--	--	--	--	--	--	--	--	--

③ 538を100倍した数

☆ □にあてはまる数をかきましょう。

④ 5kg300g = g

⑤ 1050g = kg g

☆ ひっ算で計算をしましょう。

⑥
$$\begin{array}{r} 85 \\ \times 7 \\ \hline \end{array}$$

⑦
$$\begin{array}{r} 25 \\ \times 8 \\ \hline \end{array}$$

⑧
$$\begin{array}{r} 354 \\ \times 6 \\ \hline \end{array}$$

☆ ひっ算で計算をしましょう。

⑨
$$\begin{array}{r} 0.9 \\ + 2.3 \\ \hline \end{array}$$

⑩
$$\begin{array}{r} 2.7 \\ + 6.8 \\ \hline \end{array}$$

⑪
$$\begin{array}{r} 3.6 \\ - 2.7 \\ \hline \end{array}$$

⑫
$$\begin{array}{r} 6 \\ - 1.2 \\ \hline \end{array}$$

☆ ()にあてはまる数を書きましょう。

⑬ 7.3は, 7と()をあわせた数です。

⑭ 3.8は, 0.1を()こあわせた数です。

☆ 計算をしましょう。

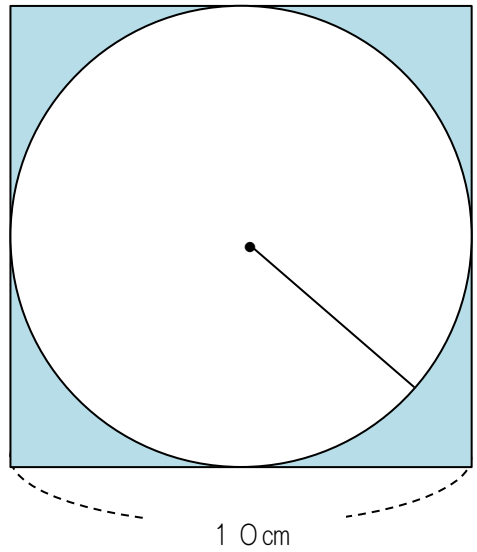
⑮
$$\frac{4}{7} + \frac{2}{7}$$

⑯
$$1 - \frac{5}{8}$$

(うらにも問題があります。)

☆ 問題を読んで答えましょう。

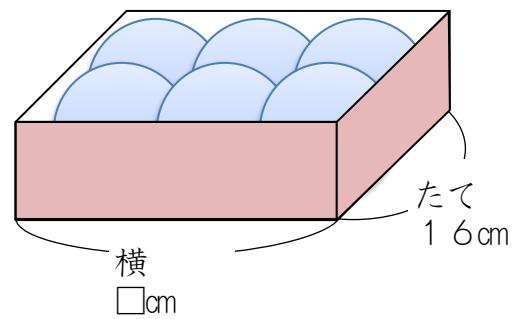
- ⑰ 一辺が10cmの正方形があります。この中に、なるべく大きい円をかいて切り取ります。円の半径の長さは何cmにすればよいですか。



答え

 cm

- ⑱ 同じ大きさのボールが箱にぴったり入っています。箱の横の長さは何cmですか。



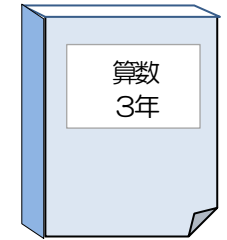
答え

 cm

☆ () にあてはまる数を書きましょう。

- ⑲ 算数の教科書のあつさ

$$7\text{ mm} = (\quad) \text{ cm}$$



- ⑳ えんぴつの長さ

$$14\text{ cm } 7\text{ mm} = (\quad) \text{ cm}$$

