

小学校 3年 組 番 名前 ()

点

☆ 計算をしましょう。

① $5 \times 70 =$

350

② $24 \times 20 =$

480

③ $80 \times 50 =$

4000

④ $43 \times 12 =$

516

⑤ $19 \times 27 =$

513

⑥ $53 \times 26 =$

1378

⑦ $40 \times 74 =$

2960

⑧ $153 \times 14 =$

2142

⑨ $606 \times 40 =$

24240

⑩ $225 \times 82 =$

18450

☆ わからない数を□として式に表しましょう。
また、□にあてはまる数を答えましょう。

⑪ りんごが7こあります。何か買ったので、
りんごは全部で25こになりました。

式 $7 + \square = 25$

⑫ ⑪の□にあてはまる数を答えましょう。

答え

18

こ

⑬ さくらさんはシールを20まいもっていました。
としかつくんから17まいもらい、うめこ
さんから何まいかもらったので、全部で52ま
いになりました。

式 $20 + 17 + \square = 52$

⑭ ⑬の□にあてはまる数を答えましょう。

答え

15

まい

☆ 計算をしましょう。

⑮ 1本75円のボールペンを1ダース買います。1000円出すと、おつりはいくらですか。

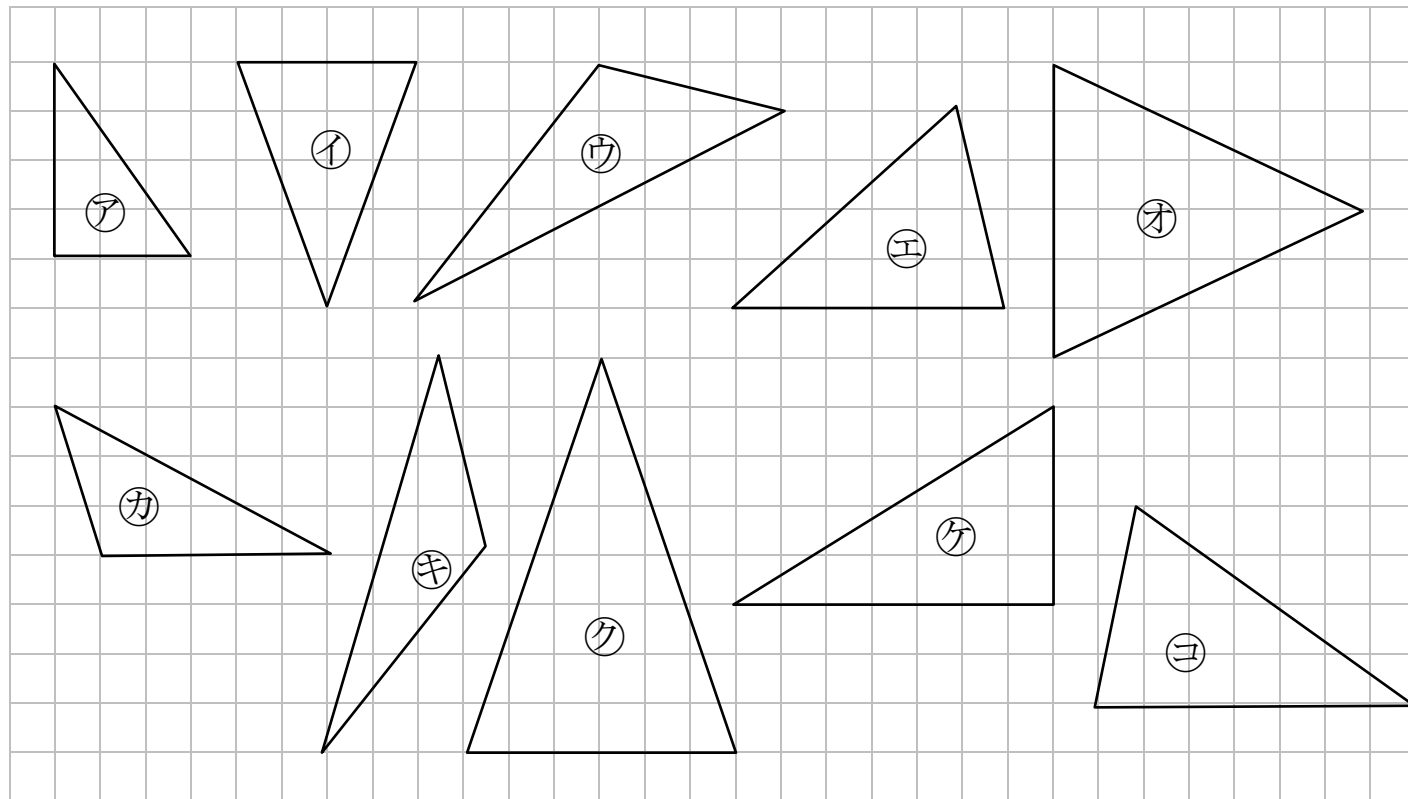
式 $75 \times 12 = 900$

$1000 - 900 = 100$

答え 100 円

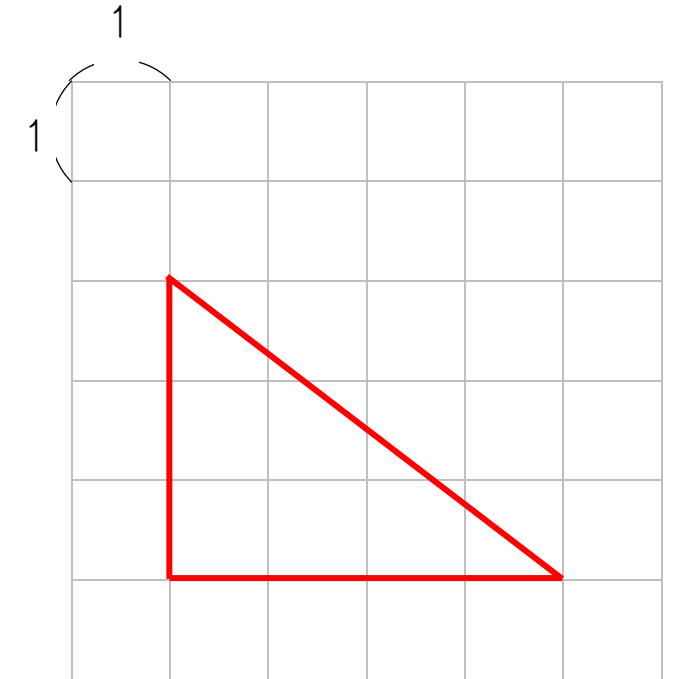
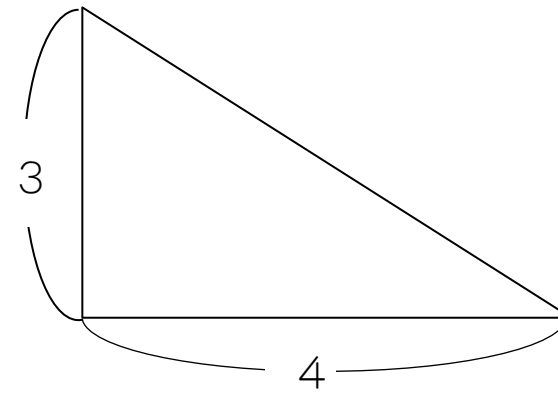
☆ 三角形について答えましょう。

⑯ 下の三角形から、二等辺三角形を全部見つけて、㉠～㉣で答えましょう。

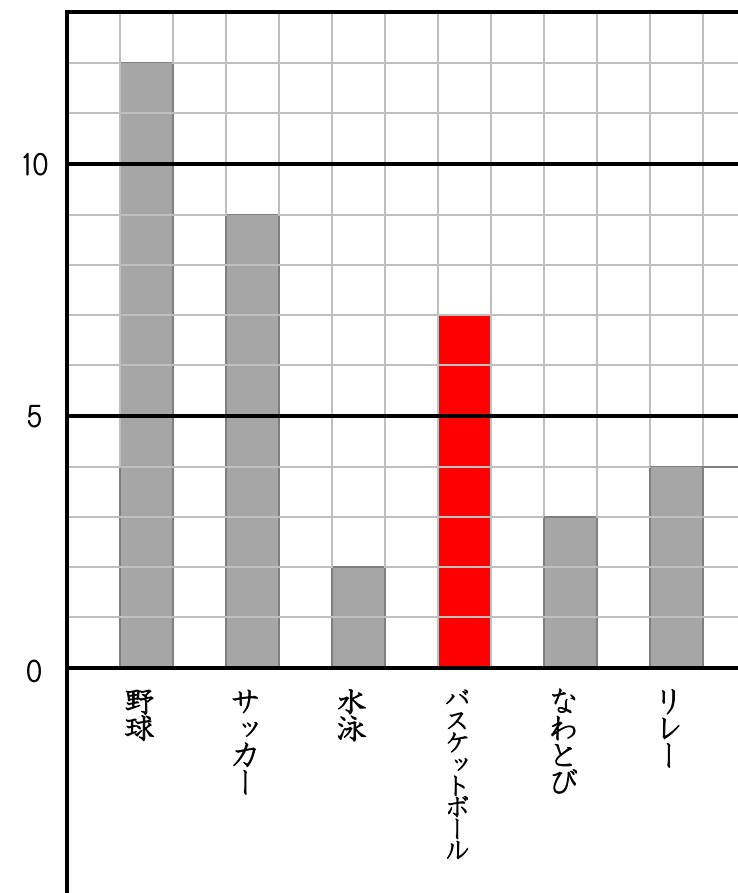


答え ㉠ ㉡ ㉢

⑰ 次のような直角三角形を書きましょう。



☆ 次のグラフを見て答えましょう。



⑱ 野球が好きな人は、何人ですか。

答え 12 人

⑲ バスケットボールが、好きな人は7人でした。ぼうグラフにあらわ表しましょう。

⑳ ボールを使ったスポーツが好きな人は、何人ですか。

答え 28 人