

小学校 3年 組 番 名前 ()

点

☆ 計算をしましょう。

① $5 \times 70 =$

② $24 \times 20 =$

③ $80 \times 50 =$

④ $43 \times 12 =$

⑤ $19 \times 27 =$

⑥ $53 \times 26 =$

⑦ $40 \times 74 =$

⑧ $153 \times 14 =$

⑨ $606 \times 40 =$

⑩ $225 \times 82 =$

☆ わからない数を□として式に表しましょう。
また、□にあてはまる数を答えましょう。

⑪ りんごが7こあります。どこか買ったので、
りんごは全部で25こになりました。

式

⑫ ⑪の□にあてはまる数を答えましょう。

答え

こ

⑬ さくらさんはシールを20まいもっていました。
としかつくんから17まいもらい、うめこ
さんから何まいかもらったので、全部で52ま
いになりました。

式

⑭ ⑬の□にあてはまる数を答えましょう。

答え

まい

☆ 計算をしましょう。

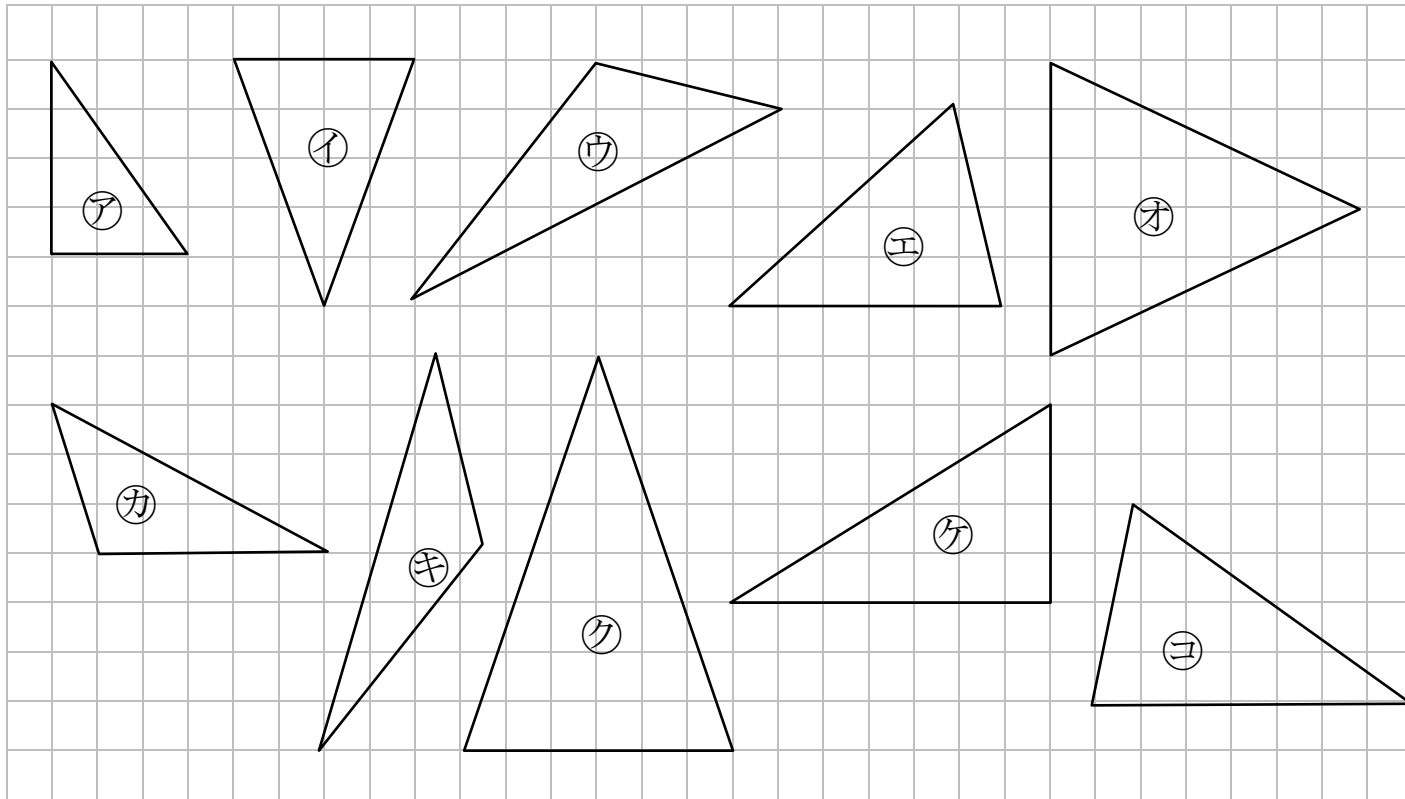
⑮ 1本75円のボールペンを1ダース買います。1000円出すと、おつりはいくらですか。

式

答え 円

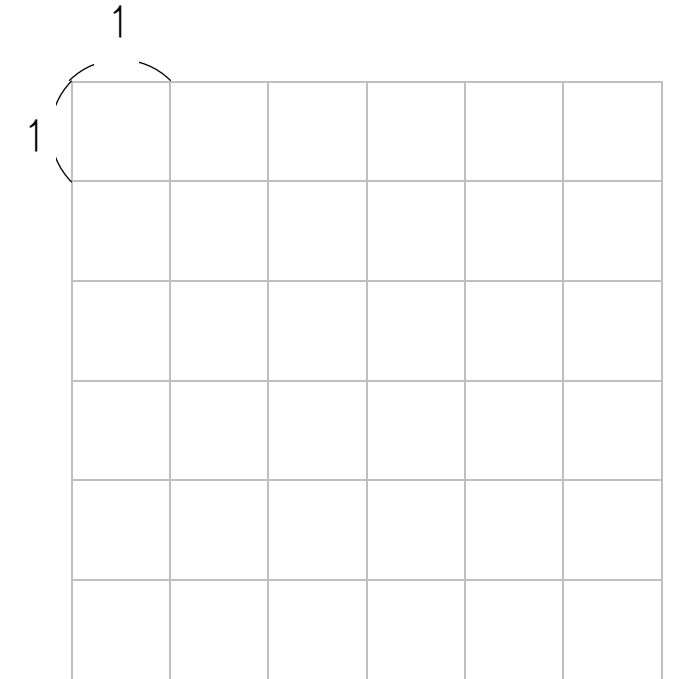
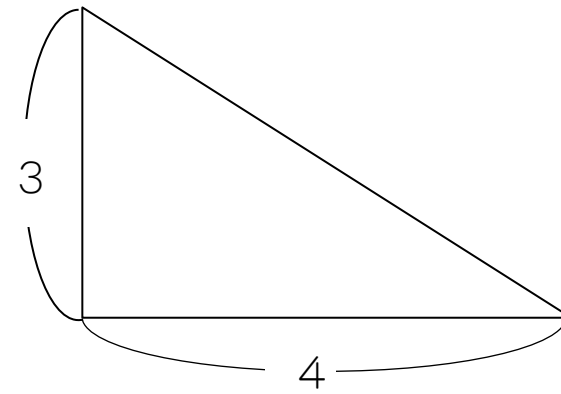
☆ 三角形について答えましょう。

⑯ 下の三角形から、二等辺三角形を全部見つけて、㉠~㉣で答えましょう。

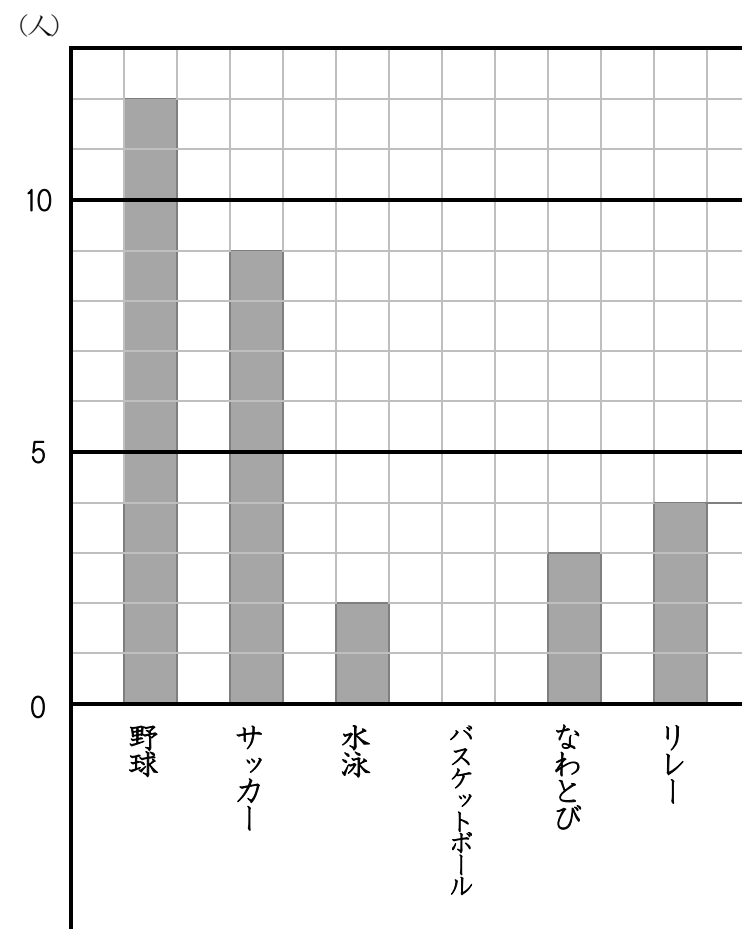


答え

⑰ 次のような直角三角形を書きましょう。



☆ 次のグラフを見て答えましょう。



⑱ 野球が好きな人は、何人ですか。

答え 人

⑲ バスケットボールが、好きな人は7人でした。ぼうグラフにあらわ表しましょう。

⑳ ボールを使ったスポーツが好きな人は、何人ですか。

答え 人