

☆ 筆算をしましょう。

⑫ 246 ページの本を, 1日に8 ページずつ読むと, 読み終わるのに何日かかりまか。

式 $246 \div 8 = 30 \cdots 6$

答え

31日

⑬ 1本160円のバラを5本買えるお金を持っています。このお金で, カーネーションを8本買いました。カーネーション1本のねだんは何円ですか。

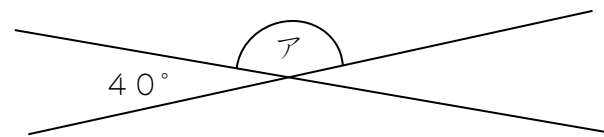
式

$160 \times 5 = 800$
 $800 \div 8 = 100$

答え

100円

⑭ アの角度を計算で求めましょう。



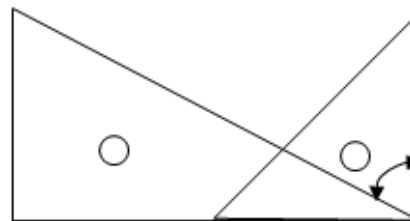
式 $180 - 40 = 140$

答え

140°

☆ 三角じょうぎを組み合わせてできる角度は何度でしょう。

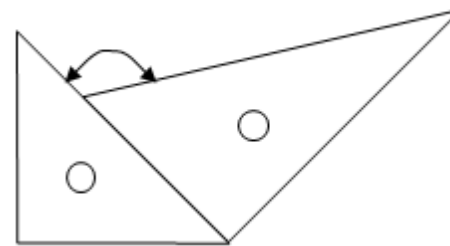
⑮



答え

60°

⑯



答え

120°

⑰ 0.01を90こ集めた数は

0.9

です。

⑱ 4.62は, 4.7より

0.08

小さい数です。

☆ 計算をしましょう。

⑲

$$\begin{array}{r} 3.507 \\ + 1.982 \\ \hline 5.489 \end{array}$$

⑳

$$\begin{array}{r} 6.487 \\ - 2.397 \\ \hline 4.09 \end{array}$$

☆終わったら, もう一度答えを見直しましょう。