

☆ 筆算をしましょう。

⑫ 246 ページの本を、1日に8 ページずつ読むと、読み終わるのに何日かかりまか。

式

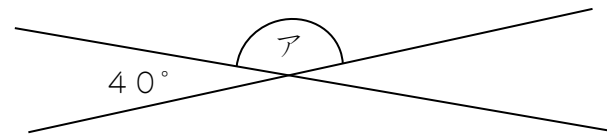
答え

⑬ 1本160円のバラを5本買えるお金を持っています。このお金で、カーネーションを8本買いました。カーネーション1本のねだんは何円ですか。

式

答え

⑭ アの角度を計算で求めましょう。

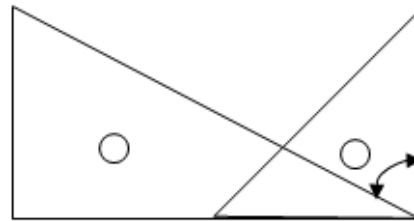


式

答え

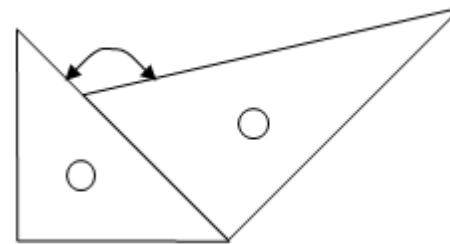
☆ 三角じょうぎを組み合わせてできる角度は何度でしょう。

⑮



答え

⑯



答え

⑰ 0.01を90こ集めた数は です。

⑱ 4.62は、4.7より 小さい数です。

☆ 計算をしましょう。

⑲

$$\begin{array}{r} 3.507 \\ + 1.982 \\ \hline \end{array}$$

⑳

$$\begin{array}{r} 6.487 \\ - 2.397 \\ \hline \end{array}$$

☆ 終わったら、もう一度答えを見直しましょう。