

小学校 4年 組 番 名前 ( )

点

☆ ひっ算で計算しましょう。

①

$$24 \overline{)96}$$

②

$$17 \overline{)52}$$

③

$$33 \overline{)398}$$

④

$$50 \overline{)700}$$

☆ がい数にしましょう。

⑤ 四捨五入して、千の位までのがい数にしましょう。

305743 →

⑥ 四捨五入して、上から2けたのがい数にしましょう。

2857021 →

☆ 計算をしましょう。

⑦  $250 - (120 - 70)$

⑧  $18 - 9 \div 3 \times 2$

⑨  $6 \times (4 + 2) \div 9$

☆ 1つの式に書いて答えましょう。

⑩ 170ページの本を、1日に15ページずつ7日間読みました。  
のこりは何ページですか。

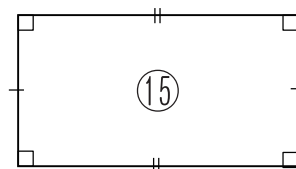
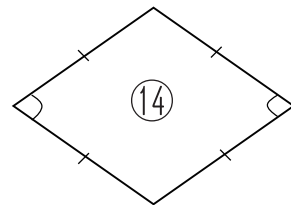
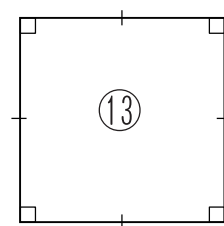
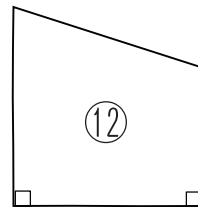
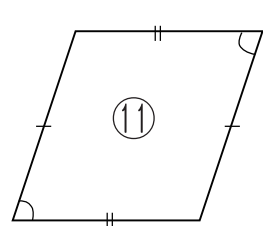
式

答え

ページ

☆ うらにも 問題が あります。

☆ 次の図形の名前を書きましょう。



⑪	
⑫	
⑬	
⑭	
⑮	

☆ 次の仮分数を帯分数か整数に直しましょう。

⑩  $\frac{21}{7} = \square$

☆  $\square$  にあてはまる、ふとうごう不等号を書きましょう。

⑪  $2\frac{2}{3} \square \frac{7}{3}$

⑫  $\frac{1}{2} \square \frac{1}{3}$

☆ 計算をしましょう。

⑬  $2\frac{1}{5} - \frac{4}{5} =$

⑭  $\frac{4}{7} + 2\frac{5}{7} =$